

天気の変化ときまり (1)

名前

1 天気の変化のしかたについて、次の(1)～(4)の文のうち正しいものには○、まちがっているものには×をつけましょう。

- (1) () 日本付近では、雲はおよそ西から東へ動き、天気はおよそ東から西へ変化していく。
- (2) () 日本付近では、雲はおよそ西から東へ動き、天気もおよそ西から東へ変化していく。
- (3) () 日本付近では、雲はおよそ東から西へ動き、天気はおよそ西から東へ変化していく。
- (4) () 台風は、西から東へ動くとは限らない。

2 右の図は、天気の変化を予想するために調べた気象情報です。次の問いに答えましょう。

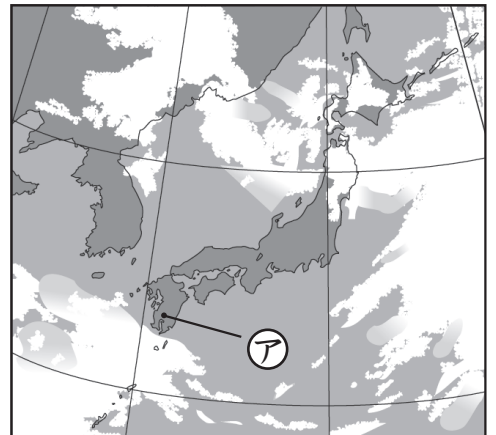
(1) 右の図の情報は、何という情報ですか。次の①、②から選び、番号を書きましょう。

① 気象衛星による雲画像

② アメダスの降水量情報

()

4月20日



(2) アの地いきの4月20日の天気はくもり、晴れのどちらと考えられますか。

()

(3) アの地いきのよく日の天気は、どうなると予想できますか。次の①、②から選び、番号を書きましょう。

① くもりまたは雨になる。

② 晴れになる。

()

天気の変化ときまり (2)

名前

1 次の文は、天気の変化について書いています。() にあてはまる言葉を下の □ から選び、書き入れましょう。

天気がどのように変化していくかは、^⑦ () のようすを観察したり、^④ 現在の () をもとに調べたりすることで^② () することができる。

気象情報 雲 予想

2 右の図ア～エは、連続した4日間のアメダスの^{れんぞく}降水量を表しています。次の問いに答えましょう。ただし、右の図は正しい順にならんでいません。

(1) 図イの地いき①の天気は、雨と晴れのどちらと考えられますか。

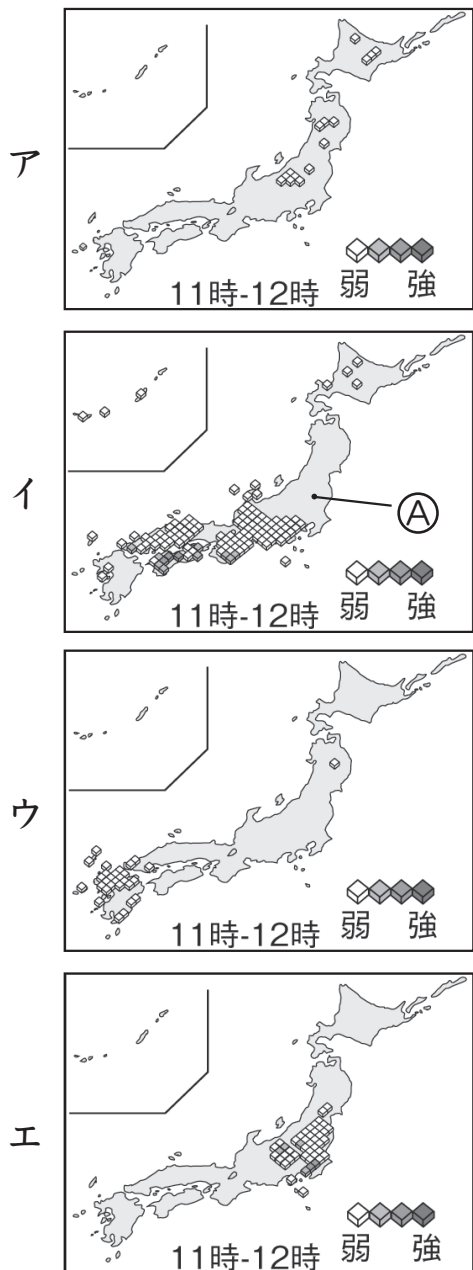
()

(2) 図イの地いき①のよく日の^{じつ}天気は、雨と晴れのどちらと予想できますか。

()

(3) 図ア～エを日づけの順にならべかえるとき、正しい順になるように () に記号を書き入れましょう。

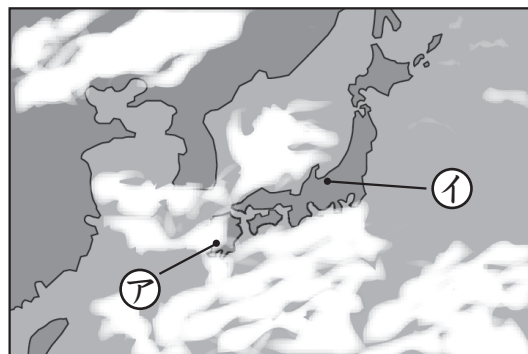
ア → () → () → エ



天気の変化ときまり (3)

名前

1 右の図は、日本付近のある日の雲画像がぞうを表しています。次の問いに答えましょう。



(1) ①の地いきの天気は晴れ、くもりのどちらと考えられますか。

()

(2) ②の地いきの天気は晴れ、雨のどちらと考えられますか。

()

(3) ①の地いきのよく日の天気じつは晴れ、雨のどちらになると予想よできますか。

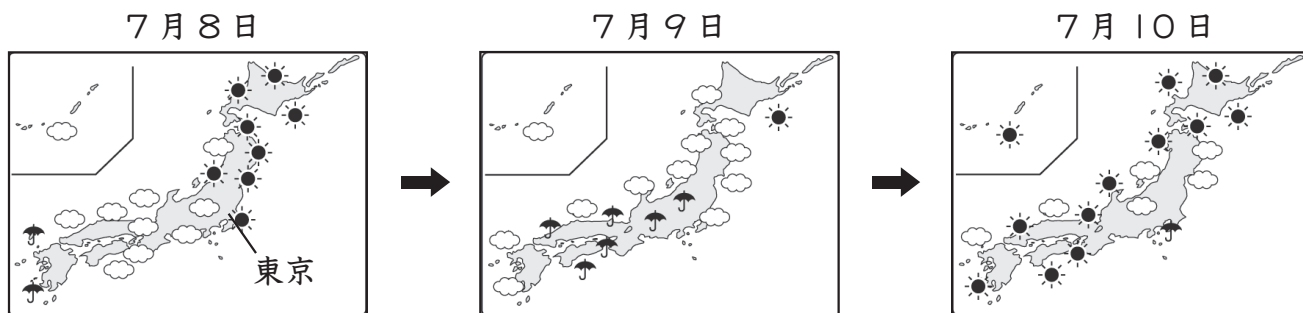
()

(4) ②の地いきのよく日の天気は、どうなるかと予想できますか。次の①、②から選び、番号を書きましょう。

① 晴れになる。 ② くもりまたは雨になる。

()

2 下の図は、天気予報ほうによる連続した3日間の各地の天気の変化を表したものです。あとの問いに答えましょう。



(1) 7月8日の東京とうきょうの天気は晴れ、くもりのどちらと考えられますか。

()

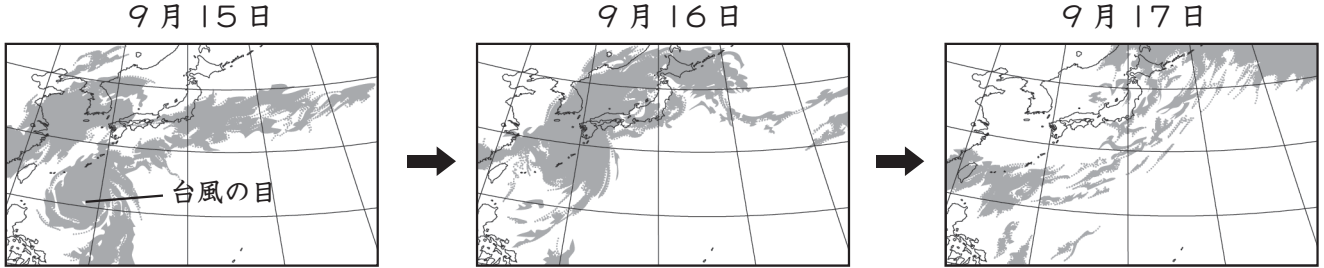
(2) 天気はどちらからどちらへ変わったと考えられますか。東、西、南、北で答えましょう。

(から)

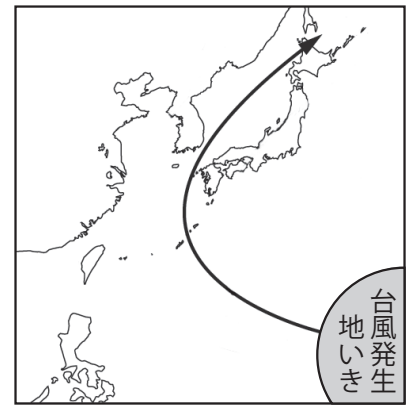
天気の変化ときまり (4)

名前

1 下の図は、台風が日本を通ったときの3日間の雲画像を表しています。あとの問いに答えましょう。

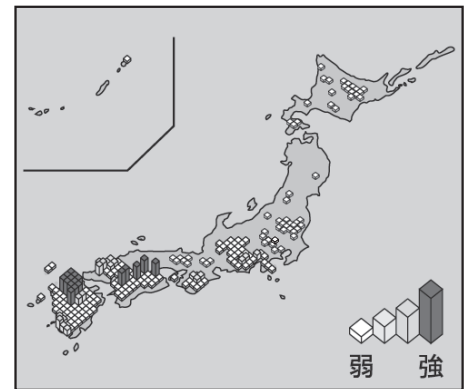


(1) 右の図は、上の図の雲の動きをもとにして表した台風の進路を示しています。台風の進み方についてまとめるとき、次の文の () の中の正しいほうの言葉を○でかこみましょう。



日本の (北・南) の方の海上で発生した台風は、はじめはおよそ (西・東) の方へ進み、その後およそ (北東・南西) の方へ向きを変えて進んだ。

(2) 右の図のアメダスの降水量情報は、上の図の3日間のうちの何月何日の情報ですか。 () に日づけを書きましょう。



()

2 次の文は、台風について説明しています。() にあてはまる言葉を下の□から選び、書き入れましょう。

台風は夏から () にかけて日本に近づくことがある。台風が近づいたところでは、強い () がふいたり、短い時間に () がふったりして、 () が起きることもある。

災害 大雨 風 秋