

# 天気の変化ときまり (1)

名前

1 天気の変化のしかたについて、次の(1)～(4)の文のうち正しいものには○、まちがっているものには×をつけましょう。

- (1) ( × ) 日本付近では、雲はおよそ西から東へ動き、天気はおよそ東から西へ変化していく。
- (2) ( ○ ) 日本付近では、雲はおよそ西から東へ動き、天気もおよそ西から東へ変化していく。
- (3) ( × ) 日本付近では、雲はおよそ東から西へ動き、天気はおよそ西から東へ変化していく。
- (4) ( ○ ) 台風は、西から東へ動くとは限らない。

2 右の図は、天気の変化を予想するために調べた気象情報です。次の問いに答えましょう。

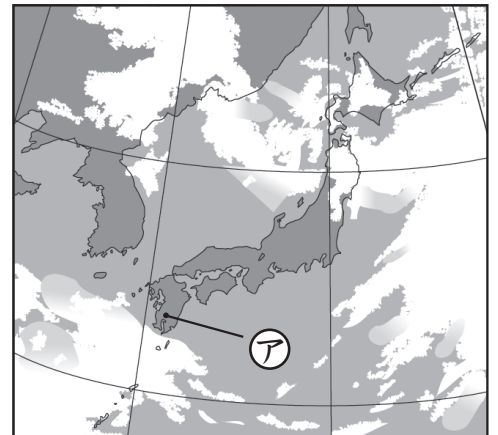
(1) 右の図の情報は、何という情報ですか。次の①、②から選び、番号を書きましょう。

① 気象衛星による雲画像

② アメダスの降水量情報

( ① )

4月20日



(2) アの地いきの4月20日の天気はくもり、晴れのどちらと考えられますか。

( 晴れ )

(3) アの地いきのよく日の天気は、どうなると予想できますか。次の①、②から選び、番号を書きましょう。

① くもりまたは雨になる。

② 晴れになる。

( ① )

# 天気の変化ときまり (2)

名前

1 次の文は、天気の変化について書いています。( ) にあてはまる言葉を下の □ から選び、書き入れましょう。

天気がどのように変化していくかは、<sup>⑦</sup> ( 雲 ) のようすを観察したり、<sup>①</sup> 現在の ( 気象情報 ) をもとに調べたりすることで <sup>②</sup> ( 予想 ) することができる。

気象情報      雲      予想

2 右の図ア～エは、連続した4日間のアメダスの降水量を表しています。次の問いに答えましょう。ただし、右の図は正しい順にはなっていません。

(1) 図イの地いき①の天気は、雨と晴れのどちらと考えられますか。

( 晴れ )

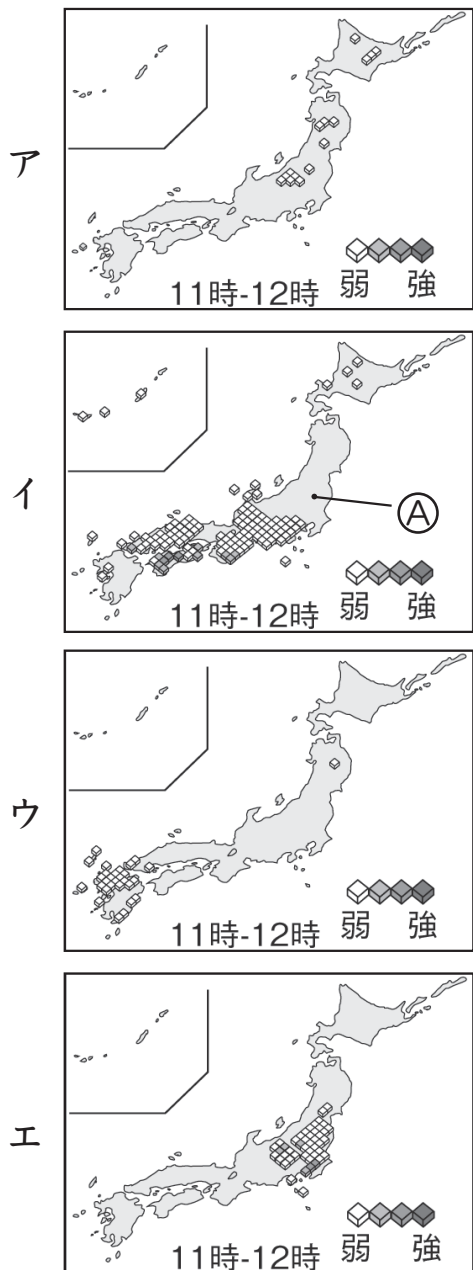
(2) 図イの地いき①のよく日の天気は、雨と晴れのどちらと予想できますか。

( 雨 )

(3) 図ア～エを日づけの順にならべかえるとき、正しい順になるように ( ) に記号を書き入れましょう。

ア → ( ウ ) → ( イ ) → エ

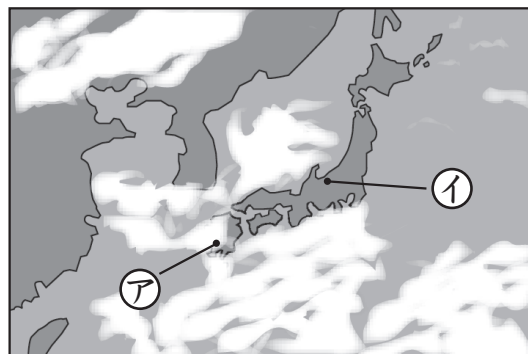
\*完答で正解です。



# 天気の変化ときまり (3)

名前

1 右の図は、日本付近のある日の雲画像がぞうを表しています。次の問いに答えましょう。



(1) ①の地いきの天気は晴れ、くもりのどちらと考えられますか。

( くもり )

(2) ②の地いきの天気は晴れ、雨のどちらと考えられますか。

( 晴れ )

(3) ①の地いきのよく日の天気じつは晴れ、雨のどちらになると予想よできますか。

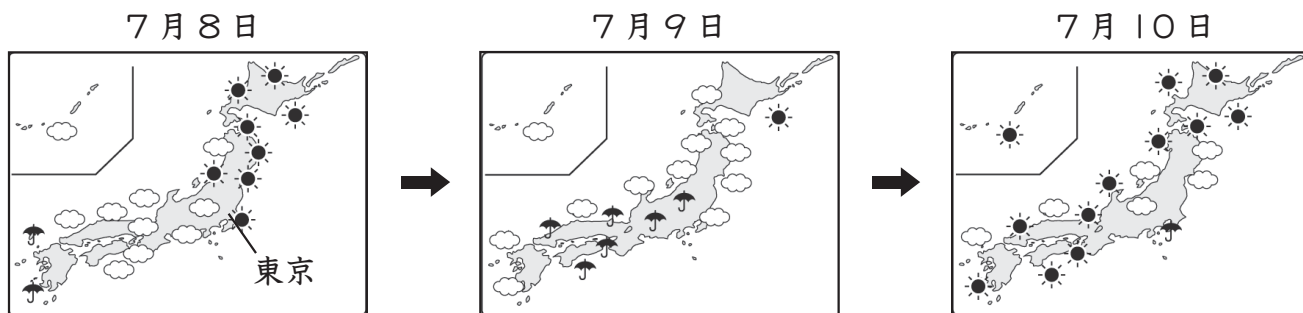
( 晴れ )

(4) ②の地いきのよく日の天気は、どうなる予想できますか。次の①、②から選び、番号を書きましょう。

① 晴れになる。      ② くもりまたは雨になる。

( ② )

2 下の図は、天気予報による連続した3日間の各地の天気の変化を表したものです。あとの問いに答えましょう。



(1) 7月8日の東京とうきょうの天気は晴れ、くもりのどちらと考えられますか。

( 晴れ )

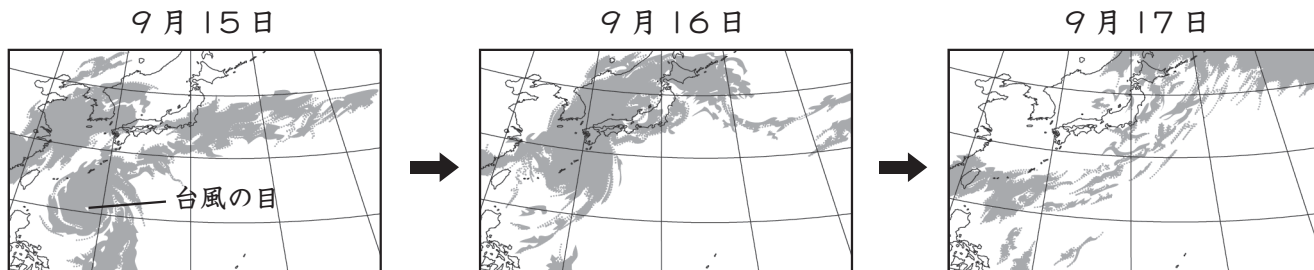
(2) 天気はどちらからどちらへ変わったと考えられますか。東、西、南、北で答えましょう。

( 西 から 東 )

# 天気の変化ときまり (4)

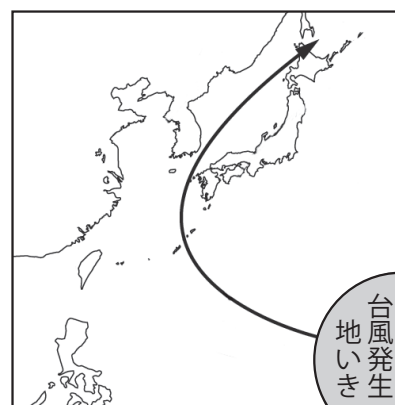
名前

1 下の図は、台風が日本を通ったときの3日間の雲画像を表しています。あとの問いに答えましょう。



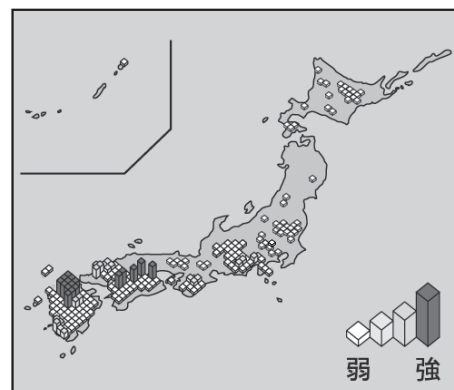
(1) 右の図は、上の図の雲の動きをもとにして表した台風の進路を示しています。台風の進み方についてまとめるとき、次の文の ( ) の中の正しいほうの言葉を○でかこみましょう。

日本の ( 北・**南** ) の方の海上で発生した台風は、はじめはおよそ ( **西**・東 ) の方へ進み、その後およそ ( **北東**・南西 ) の方へ向きを変えて進んだ。



(2) 右の図のアメダスの降水量情報は、上の図の3日間のうちの何月何日の情報ですか。 ( ) に日づけを書きましょう。

( 9月16日 )



2 次の文は、台風について説明しています。( ) にあてはまる言葉を下の□から選び、書き入れましょう。

台風は夏から <sup>⑦</sup> ( **秋** ) にかけて日本に近づくことがある。台風が近づいたところでは、強い <sup>①</sup> ( **風** ) がふいたり、短い時間に <sup>②</sup> ( **大雨** ) がふったりして、<sup>③</sup> ( **災害** ) が起きることもある。

災害      大雨      風      秋