



もん
だい

にほんの ことを おぼえよう


にほんの ちり




6

わたしたちが くらしている にほんについて のクイズだよ。いくつわかるかな。

ふくしまけんにある にほんで 4ばんめに
おおきな みずうみ。
ふゆには はくちょうが やってくる。




いしかわけんで つくられている やきもの。
「ごさい」とよばれる 5しゅるいの えのぐで
おさらや うつわに あざやかな
えが かかれています。



かながわけんの
かまくらしの
おてらにある
11.39メートルの
ほとけさまの そう。

こうちけんで 8がつに ひらかれる
おまつり。なるこ という おとの での
どうぐを もって おどる。



みやざきけんから かごしまけんにつづく
かいがんの こくていこうえん。
うつくしい かいがなが ゆうめい。
やせいの うまがいます。