

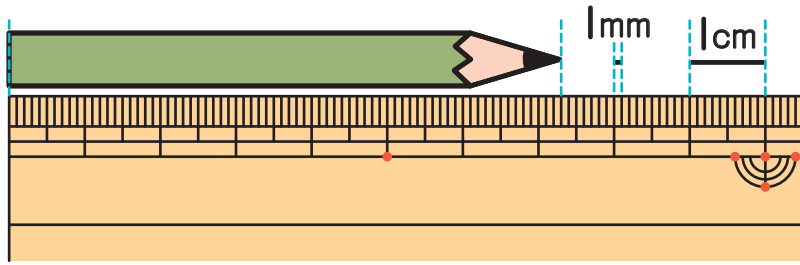
長さ(2)

長さの単位 対象：2年生 ねらい：「ミリメートル (mm)」の単位を覚え、長さをはかれるようになる。

てん

この えんぴつの ^{なが}長さは？

学習プリント無料ダウンロード
ちびむすドリル
© ちびむすドリル



● なぞりましょう。

7cm 3mm
センチメートル ミリメートル

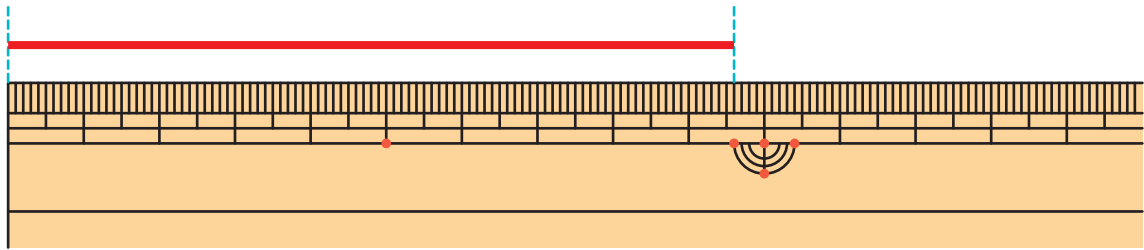


ミリメートルも、
長さのたんいで、mmと書くよ！

1mmが10ぶんで、1cmだよ。



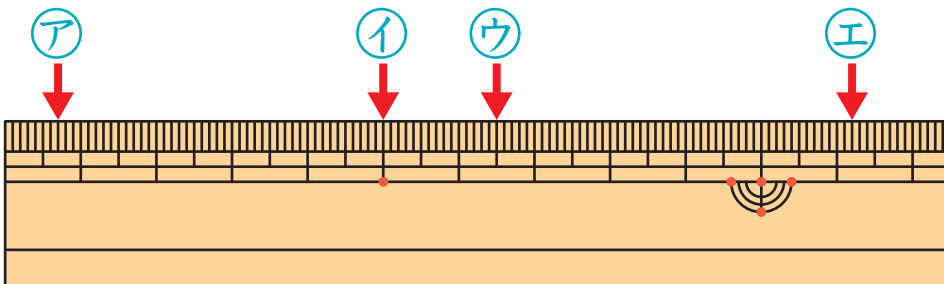
①と②の□にあてはまる^{かず}数を書きましょう。1つ5てん (20)



① この^{せん}線の長さは、1cmの□つ分と、1mmの□つ分です。

② この線の長さは、□cm □mmです。

② ものさしの左はしから、ア、イ、ウ、エまでの長さを書きましょう。1つ20てん (80)



ア (mm)

イ (cm)

ウ ()

エ ()

やってみよう!

上と下で長さがおなじなのはどれかな？ 線でむすぼう。

10mm 2cm 3cm 4mm 18mm 5cm 5mm

20mm 1cm 55mm 34mm 1cm 8mm