

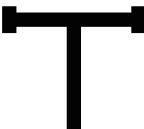


地図記号テスト-1

つぎの地図記号が何をあらわしているか、() の中に書きなさい。

 (しやくしょ) 市役所	 (ほけんじょ) 保健所	 (こうとうがっこう) 高等学校	 (としょかん) 図書館
 (ちようそんやくば) 町村役場	 (けいさつしょ) 警察署	 (小・中学校) 小・中学校	 (じんじや) 神社
 (ぜいむしょ) 税務署	 (交番) 交番	 (大学) 大学	 (じいん) 寺院
 (しょうぼうしょ) 消防署	 (ゆうびんきょく) 郵便局	 (はくぶつかん) 博物館	 (びょういん) 病院
 (かんこうしょ) 官公署	 (きしやうだい) 気象台	 (さいばんしょ) 裁判所	 (ふうしゃ) 風車
 (ろうじん) 老人ホーム	 (しんりんかんりしょ) 森林管理署	 (さいせきち) 採石地	 (さいこうち) 採鉱地
 (工場) 工場	 (じえいたい) 自衛隊	 (えんとつ) 煙突	 (こうこう) 坑口