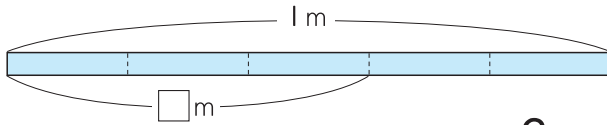


1 1 m のテープを 5 等分します。分けた 3 つ分の長さは何 m でしょう。 10点

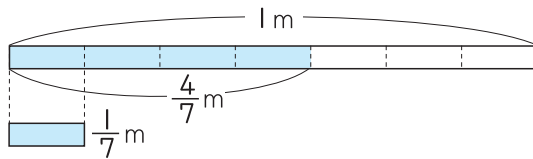


($\frac{3}{5}m$)

1 m を 5 等分した
1 つ分は $\frac{1}{5}m$ だね。

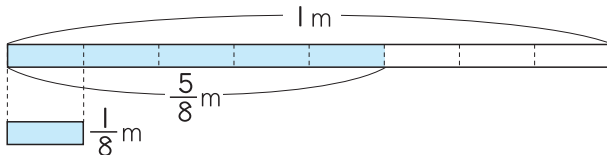


2 $\frac{4}{7}m$ のテープは、 $\frac{1}{7}m$ のテープの何本分でしょう。 10点



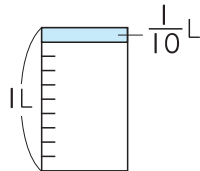
(4 本分)

3 $\frac{1}{8}m$ のテープを何本あわせると、 $\frac{5}{8}m$ の長さになるでしょう。 10点



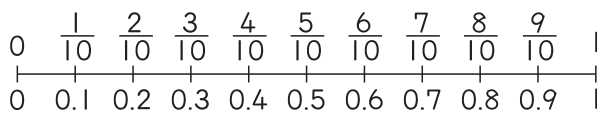
(5 本)

4 1 L の水を、 $\frac{1}{10}L$ 入りのコップに等しく分けると、コップ何こ分になるでしょう。 10点



(10 こ分)

5 水 $\frac{3}{10}L$ を小数で表すと、何 L となるでしょう。 10点



$0.1 = \frac{1}{10}$ だよ。



(0.3 L)

