

ひきざん



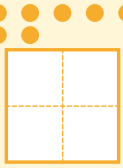
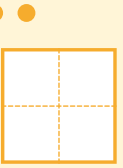

| | |
|----|-----|
| かつ | なまえ |
| にち | |


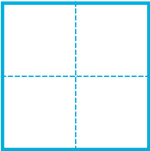
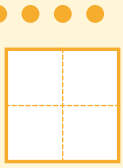
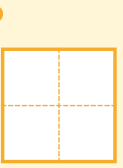

おうちのかたへ


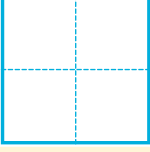
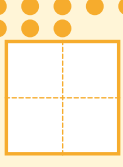
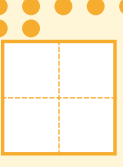
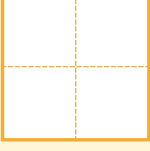
数の理解を助けるため、具体物の絵を添えています。ひき算の意味を理解しているかどうか、見守ってあげてください。

ひきざんを しましょう。

 と  に すうじを かきましょう。

| | | | | |
|--|--------------------|---|-------------------|---|
| <p>はじめの かず</p>  | <p>7</p> | <p>2</p> | <p>とると</p> | <p>のこりは</p>  |
| <p>しき</p>  | <p>ひく</p> <p>—</p> |  | <p>は</p> <p>=</p> |  |

| | | | | |
|--|--------------------|---|-------------------|---|
| <p>はじめの かず</p>  | <p>4</p> | <p>1</p> | <p>とると</p> | <p>のこりは</p>  |
| <p>しき</p>  | <p>ひく</p> <p>—</p> |  | <p>は</p> <p>=</p> |  |

| | | | | |
|--|--------------------|---|-------------------|---|
| <p>はじめの かず</p>  | <p>8</p> | <p>7</p> | <p>とると</p> | <p>のこりは</p>  |
| <p>しき</p>  | <p>ひく</p> <p>—</p> |  | <p>は</p> <p>=</p> |  |

