

あわせて いくつ？




が	なまえ
つ	こたえ
に	
ち	

おうちのかたへ

「あわせて いくつ？」は、たし算の基本です。いくつといくつの数が合わさるのか、正しく言えるように練習しましょう。

あわせると いくつに なりますか。

 に すうじを かきましょう。



新興出版社啓林館 & ちびむすドリル スペシャルコラボ企画

幼児向け
ドリル **おうちレッスン**

小学校入学前に必要な資質・能力が身につく構成！

少しだけ「できる子」になるための要素をプラス！



おうちレッスン

or 教科書ぴったリテスト

検索

おうちレッスン
公式サイトは
こちら



家庭学習の定番！
通信教育より断然安い！
教科書ぴったリテスト
公式サイトはこちら



ふえると いくつ？

が	なまえ
じ	

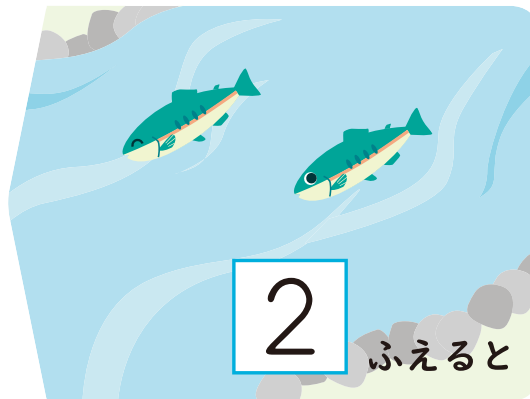
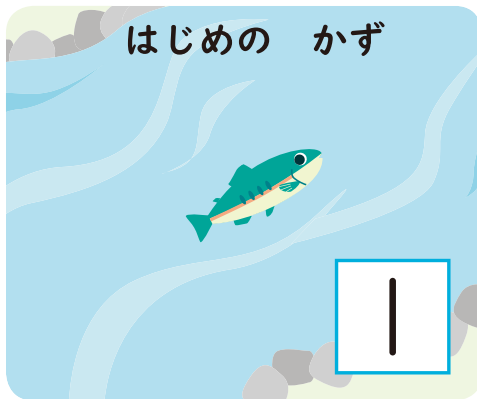
こたえ

おうちのかたへ

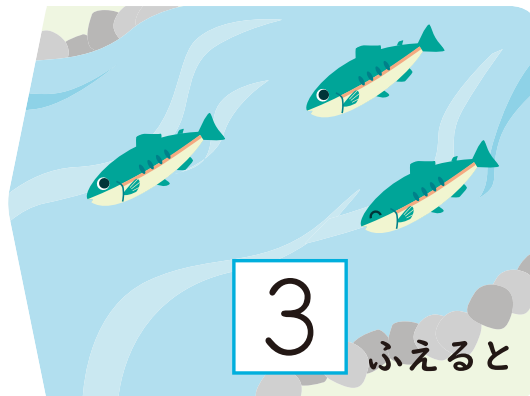
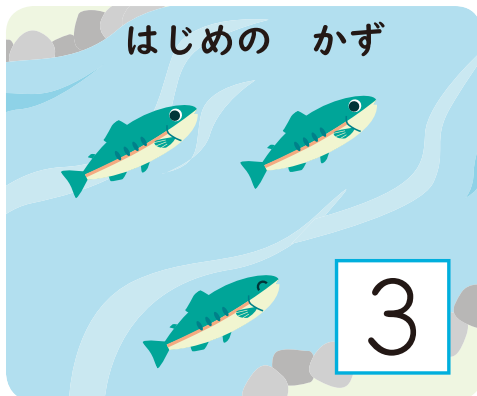
すぐ答えをかくのではなく、“はじめのかず”と“ふえたかず”をしっかりと言えるようにしてから、答えるようにしましょう。

ふえると いくつに なりますか。

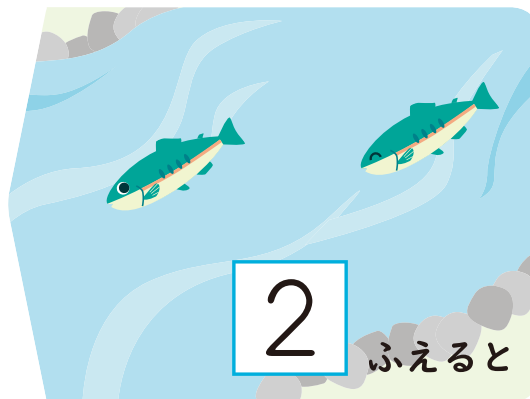
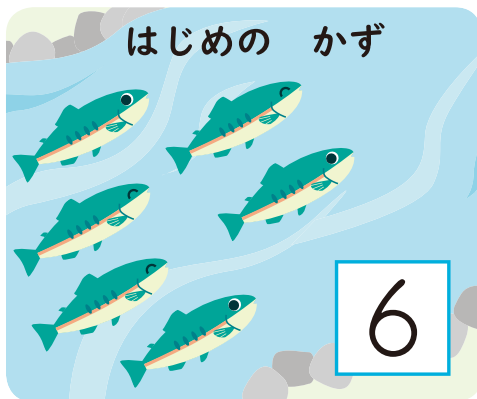
 に すうじを かきましょう。



3



6



8

新興出版社啓林館 & ちびむすドリル スペシャルコラボ企画

幼児向け
ドリル **おうちレッスン**

小学校入学前に必要な資質・能力が身につく構成！

少しだけ「できる子」になるための要素をプラス！



おうちレッスン

or 教科書ぴったリテスト

検索

おうちレッスン
公式サイトは
こちら




家庭学習の定番！
通信教育より断然安い！
教科書ぴったリテスト
公式サイトはこちら






おうちのかたへ
「あわせるといくつになるか」という、たし算を“式”で表す練習です。「+」「=」の記号の読み方と意味を教えてください。

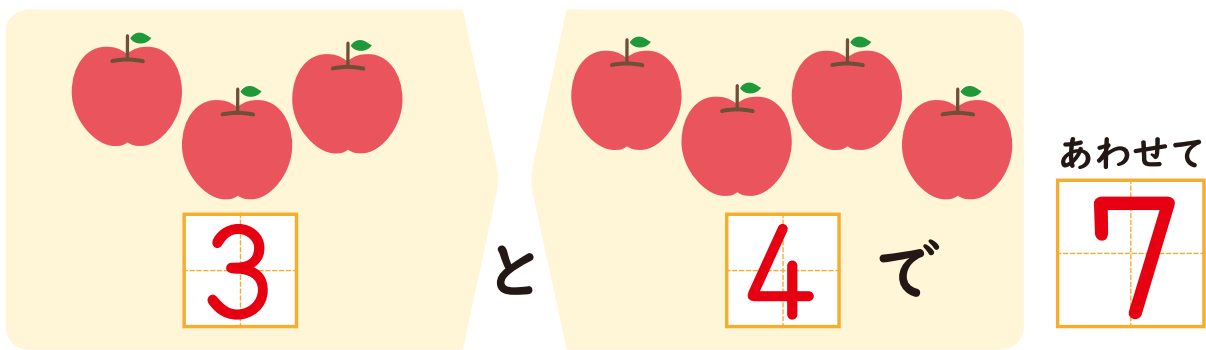
たしざんを しましょう。

 と  に すうじを かきましょう。






あわせて

しき  たす +  は = 



あわせて

しき  たす +  は = 

新興出版社啓林館 & ちびむすドリル スペシャルコラボ企画

幼児向け
ドリル **おうちレッスン**

小学校入学前に必要な資質・能力が身につく構成！
少しだけ「できる子」になるための要素をプラス！



おうちレッスン

or 教科書ぴったリテスト

検索

おうちレッスン
公式サイトは
こちら



家庭学習の定番！
通信教育より断然安い！
教科書ぴったリテスト
公式サイトはこちら



おうちのかたへ

「ふえるといくつになるか」という、たし算を“式”で表す練習です。絵と同じ数がきちんと書けているか、注意して見てあげましょう。

たしざんを しましょう。

 と  に すうじを かきましょう。

はじめの かず



2



3

ふえると

5

しき

2


たす
+

3


は
=

5

はじめの かず



4



2

ふえると

6

しき

4

たす
+

2

は
=

6



おうちのかたへ

数字だけの式を使った、たし算の練習です。これまでの練習で、たし算の認識がしっかりできているかどうか、確認をしてあげてください。

たしざんを しましょう。

 と  に すうじを かきましょう。

$$1 + 2 = 3$$

$$2 + 4 = 6$$

$$3 + 2 = 5$$

$$2 + 7 = 9$$

$$9 + 1 = 10$$



6

たしざん

なまえ

がつ
にち

こたえ

たしざんを しましょう。

□と □に すうじを かきましょう。

$$\boxed{8} + \boxed{1} = \boxed{9}$$

$$\boxed{4} + \boxed{3} = \boxed{7}$$

$$\boxed{5} + \boxed{1} = \boxed{6}$$

$$\boxed{6} + \boxed{2} = \boxed{8}$$

$$\boxed{7} + \boxed{3} = \boxed{10}$$

$$\boxed{3} + \boxed{6} = \boxed{9}$$

新興出版社啓林館 & ちびむすドリル スペシャルコラボ企画

幼児向け
ドリル **おうちレッスン**

小学校入学前に必要な資質・能力が身につく構成！

少しだけ「できる子」になるための要素をフラス！



おうちレッスン

or 教科書ぴったリテスト

検索

おうちレッスン
公式サイトは
こちら



家庭学習の定番！
通信教育より断然安い！
教科書ぴったリテスト
公式サイトはこちら



のこりは いくつ？

なまえ
が
じ
に
ち

こたえ

おうちのかたへ

「のこりは いくつ？」は、ひき算の意味を、視覚的に認識させるための練習です。「はじめのかず」と「へる」の意味を理解させましょう。

のこりは いくつに なりますか。

 に すうじを かきましょう。


はじめの かず




へると

のこりは

はじめの かず



7



1

へると

のこりは

新興出版社啓林館 & ちびむすドリル スペシャルコラボ企画

幼児向け
ドリル

おうちレッスン

小学校入学前に必要な資質・能力が身につく構成！

少しだけ「できる子」になるための要素をプラス！



おうちレッスン

or

教科書ぴったリテスト

検索

おうちレッスン
公式サイトは
こちら家庭学習の定番！
通信教育より断然安い！
教科書ぴったリテスト
公式サイトはこちら

のこりは いくつ？

が つ	なまえ	こたえ
に ち		

おうちのかたへ
「たべる」「のむ」の場合も、「へる」と同じように考えたらよいことを認識させながら、練習させてください。

のこりは いくつに なりますか。

と に すうじを かきましょう。


はじめの かず



のこりは

たべると

はじめの かず



のこりは

たべると

はじめの かず



のこりは



たべると



ひきざん

が つ	なまえ	こたえ
に ち		

おうちのかたへ
「ひく(たべる・とるなど)とのこりはいくつになるか」という、ひき算を“式”で表す練習です。「-」「=」の記号の読み方と意味を教えてあげてください。

ひきざんを しましょう。
 と  に すうじを かきましょう。

はじめの かず










のこりは 

 たべると


しき  ひく  は 


— =


はじめの かず


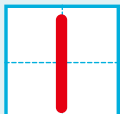







のこりは 

 たべると

しき  ひく  は 

— =



おうちレッスン
公式サイトは
こちら



家庭学習の定番！
通信教育より断然安い！
教科書ぴったりテスト
公式サイトはこちら




ひきざん




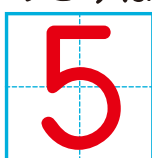
なまえ	こたえ
がつ にち	






おうちのかたへ




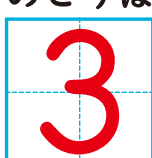
数の理解を助けるため、具体物の絵を添えています。ひき算の意味を理解しているかどうか、見守ってあげてください。






ひきざんを しましょう。




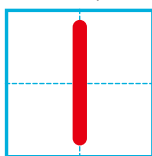
 と  に すうじを かきましょう。

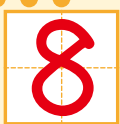



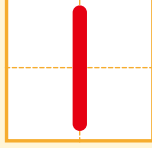
はじめの かず    とると  のこりは

しき  ひく   は  

はじめの かず    とると  のこりは

しき  ひく   は  

はじめの かず    とると  のこりは

しき  ひく   は  

新興出版社啓林館 & ちびむすドリル スペシャルコラボ企画

幼児向けドリル **おうちレッスン**

小学校入学前に必要な資質・能力が身につく構成!

少しだけ「できる子」になるための要素をプラス!



おうちレッスン

or 教科書ぴったりにテスト

検索

おうちレッスン
公式サイトは
こちら



家庭学習の定番!
通信教育より断然安い!
教科書ぴったりにテスト
公式サイトはこちら



ちがいはいくつ？

なまえ	こたえ
かつ にち	

おうちのかたへ

「ちがいは いくつ？」は、ひき算のもう1つの意味を、視覚的に認識させるための練習です。「どちらが おおい？」から「ちがいは いくつ？」に移行していきます。


どちらが おおいですか。


おおい ほうの や に ○ を かきましょう。




○








○





○

新興出版社啓林館 & ちびむすドリル スペシャルコラボ企画

幼児向け
ドリル **おうちレッスン**

小学校入学前に必要な資質・能力が身につく構成！

少しだけ「できる子」になるための要素をプラス！



おうちレッスン

or

教科書びったりテスト

検索

おうちレッスン
公式サイトは
こちら



家庭学習の定番！
通信教育より断然安い！
教科書びったりテスト
公式サイトはこちら



うえの かずと したの かずの ちがいは いくつですか。
 せんで つないで、

 に すうじを かきましょう。

ちがいは

2

ちがいは

5

ちがいは

1




ひきざん

が じ う	な ま え	<h1>こたえ</h1>
に ち う		


おうちのかたへ
ひき算の練習です。双方の数の差(ちがひ)が、ひき算の答えになることを理解させてあげましょう。

ひきざんを しましょう。

 に すうじを かきましょう。



4




3


4と 3の
ちがひは 1



しき 4 ひく 3 は 1



6



4

6と 4の
ちがひは 2



しき 6 ひく 4 は 2

新興出版社啓林館 & ちびむすドリル スペシャルコラボ企画

幼児向け
ドリル **おうちレッスン**

小学校入学前に必要な資質・能力が身につく構成!
少しだけ「できる子」になるための要素をプラス!



おうちレッスン

or 教科書ぴったリテスト

検索

おうちレッスン
公式サイトは
こちら



家庭学習の定番!
通信教育より断然安い!
教科書ぴったリテスト
公式サイトはこちら





が じ	なまえ	<h1>こたえ</h1>
に ち		

おうちのかたへ

数の理解を助けるため、具体物の絵を添えています。数字の見本はありません。数字をちゃんと書けているか、注意して見てあげましょう。

うえの かずから したの かずを ひくと いくつになりますか。

 に すうじを かきましょう。



しき

	6	

 -

	5	

 =

	1	



しき


	8	

 -

	6	

 =

	2	



しき

	7	

 -

	4	

 =

	3	

新興出版社啓林館 & ちびむすドリル スペシャルコラボ企画

幼児向け
ドリル **おうちレッスン**

小学校入学前に必要な資質・能力が身につく構成！
少しだけ「できる子」になるための要素をプラス！



おうちレッスン

or 教科書ぴったリテスト

検索

おうちレッスン
公式サイトは
こちら



家庭学習の定番！
通信教育より断然安い！
教科書ぴったリテスト
公式サイトはこちら

