

たしざん

が	なまえ	こたえ
つ		

おうちのかたへ

「ふえるといくつになるか」という、たし算を“式”で表す練習です。絵と同じ数がきちんと書けているか、注意して見てあげましょう。

たしざんを しましょう。

 と  に すうじを かきましょう。

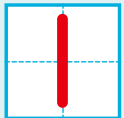

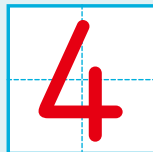
はじめの かず






ふえると



しき  たす +  は = 



はじめの かず






ふえると



しき  たす +  は = 