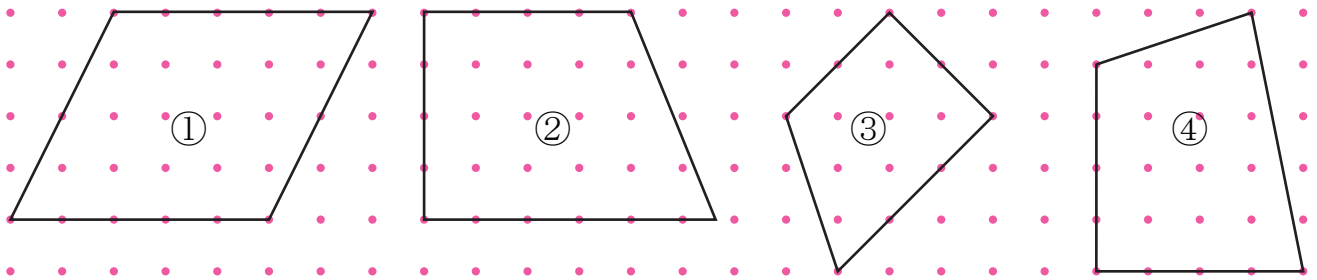


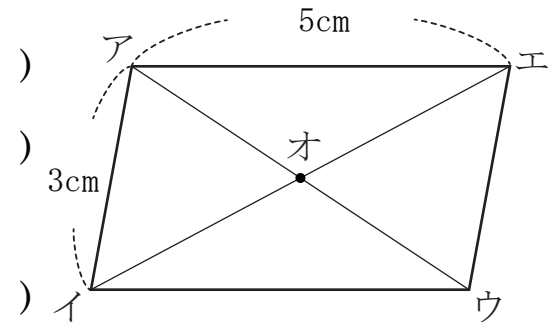
【1】 次の四角形の中から、台形と平行四辺形をすべてさがし、記号で答えなさい。



答え                      台形    平行四辺形


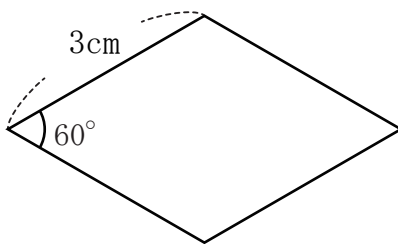
【2】 右の平行四辺形について、次の問いに答えなさい。

- (1) 辺ウエの長さを求めなさい。(                      )
- (2) 辺イウの長さを求めなさい。(                      )
- (3) 直線アオと長さの等しい直線はどれですか。  
(                      )



【3】 次のような四角形を□の中にかきなさい。

① ひし形



② 台形

