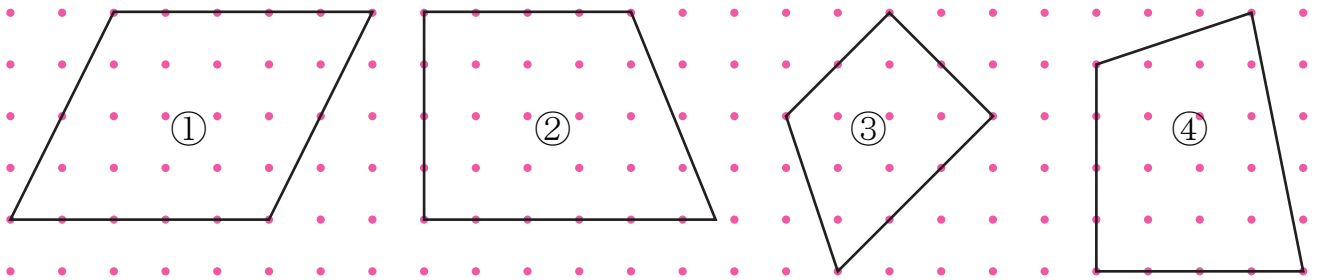


【1】 次の四角形の中から、台形と平行四辺形をすべてさがし、記号で答えなさい。



答え 台形 ② ③ 平行四辺形 ①

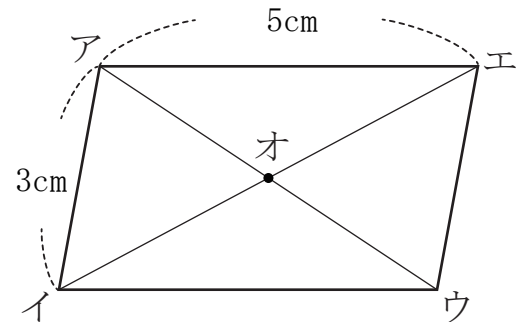
【2】 右の平行四辺形について、次の問いに答えなさい。

(1) 辺ウエの長さを求めなさい。(3cm)

(2) 辺イウの長さを求めなさい。(5cm)

(3) 直線アオと長さの等しい直線はどれですか。

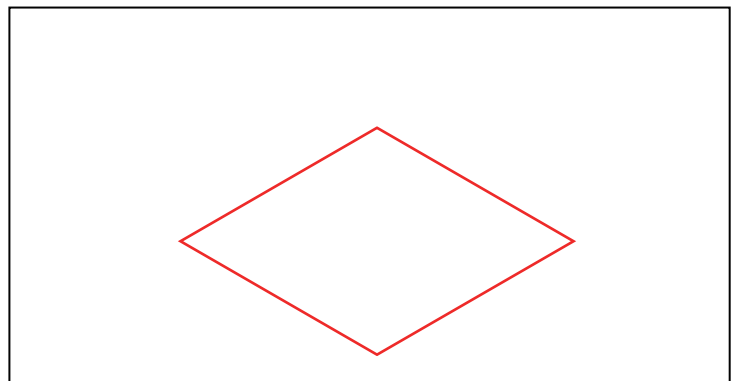
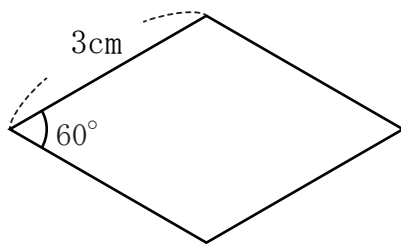
(直線ウオ)



※平方四辺形の2本の対角線は、それぞれのまん中の点で交わります。

【3】 次のような四角形を□の中にかきなさい。

① ひし形



② 台形

