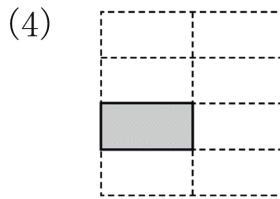
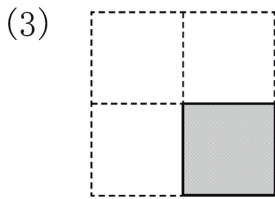
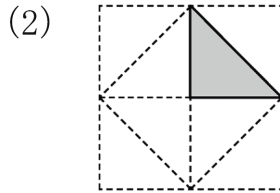
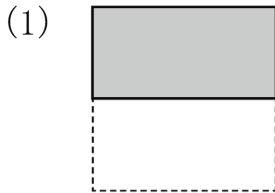


1 正方形の紙を、同じ大きさにいくつかに切りました。
1つ分の大きさは、もとの正方形の大きさのどれだけ
ですか。



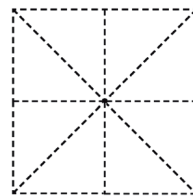
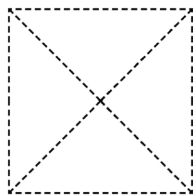
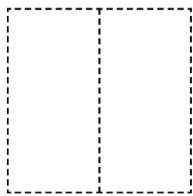
(1)	
(2)	
(3)	
(4)	

2 つぎの大きさにいろをぬりましょう。

(1) $\frac{1}{2}$

(2) $\frac{1}{4}$

(3) $\frac{1}{8}$

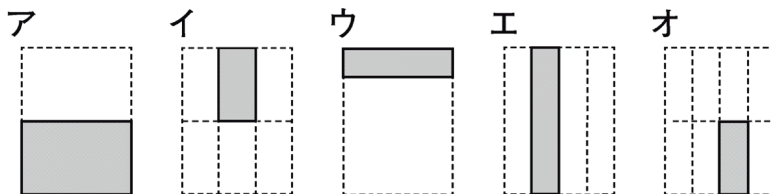


(1)	左にかきましよう。
(2)	左にかきましよう。
(3)	左にかきましよう。

3 長方形の紙を、いくつかに切りました。あとの大き
さのものをえらんで、きごうを書きましよう。

(1) もとの大きさの $\frac{1}{2}$

(2) もとの大きさの $\frac{1}{4}$



(1)	
(2)	

