

1

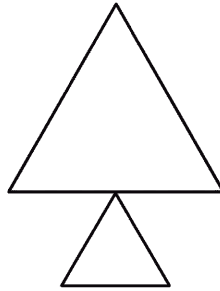
△をならべて、つぎのかたちをつくりました。さかじめにせんをひいてなんまいつかったかかんがえましょう。

(1)	まい
(2)	まい

(1)



(2)

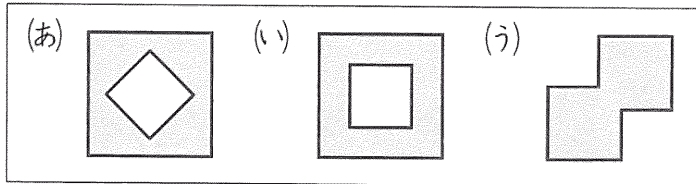
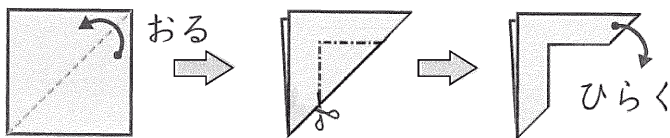


2

おりがみを つぎのように おり、おりがみにひいたせんをきって ひらくと どのかたちになりますか。

(1)	
(2)	

(1)



(2)

