

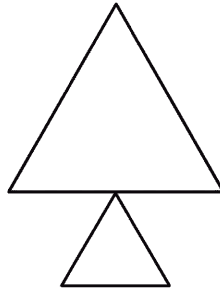
1

△をならべて、つぎのかたちをつくりました。さかじめにせんをひいてなんまいつかったかかんがえましょう。

(1)



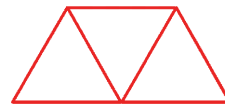
(2)



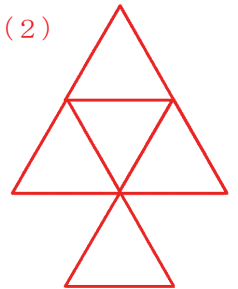
(1)	3	まい
(2)	5	まい

線を引くと、下の図のようになります。

(1)



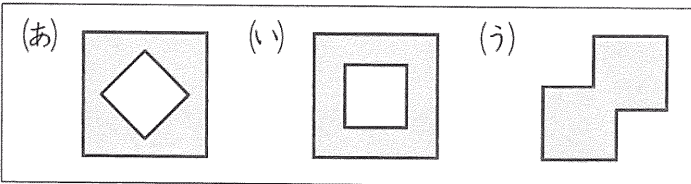
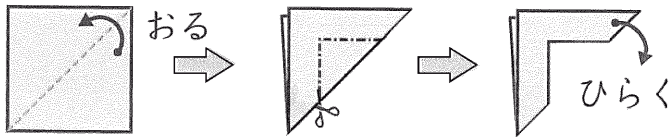
(2)



2

おりがみをつぎのようにおり、おりがみにひいたせんをきってひらくとどのかたちになりますか。

(1)



(1)	(い)
(2)	(あ)

(2)

