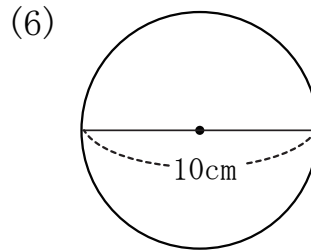
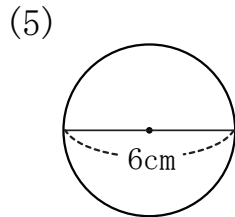
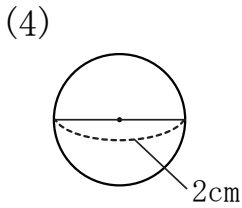
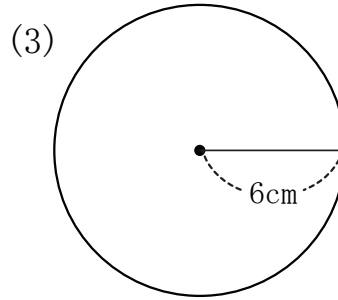
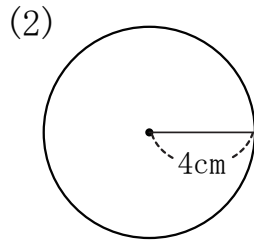
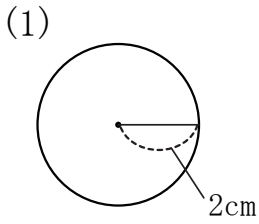


【1】 次の円の面積を求めなさい。円周率は3.14を使うこと。



(1) 式 _____ 答え _____

(2) 式 _____ 答え _____

(3) 式 _____ 答え _____

(4) 式 _____ 答え _____

(5) 式 _____ 答え _____

(6) 式 _____ 答え _____

【2】 次の問題に答えなさい。

(1) 円周が37.68cmの円があります。この円の面積は何cmか求めなさい。

式 _____

答え _____

(2) 半径が6cmの円の面積は、半径が2cmの円の面積の何倍か求めなさい。

式 _____

答え _____