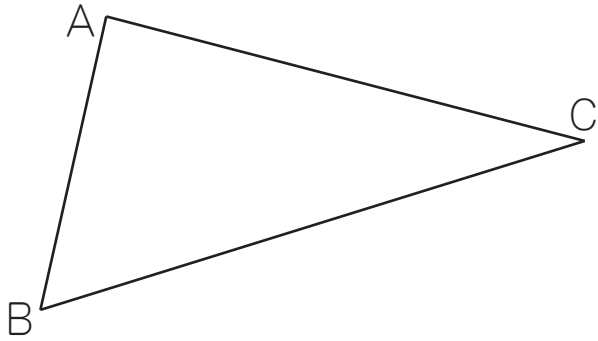


合同な図形 (1)

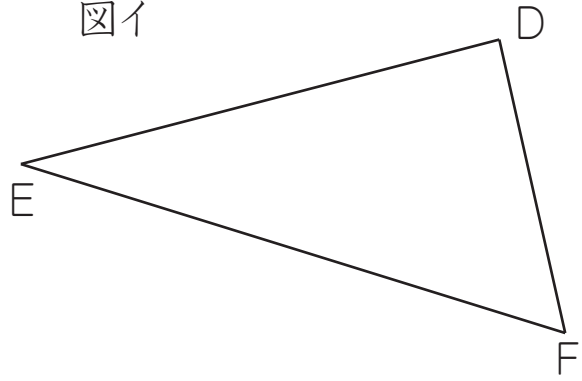
名前 _____

☆ 下の二つの図形は合同です。この図を見て質問に答えましょう。

図ア



図イ



(1) 図アの頂点A、B、Cに対応する図イの頂点を答えましょう。

答え 頂点Aに対応する頂点... D 頂点Bに対応する頂点... F
 頂点Cに対応する頂点... E

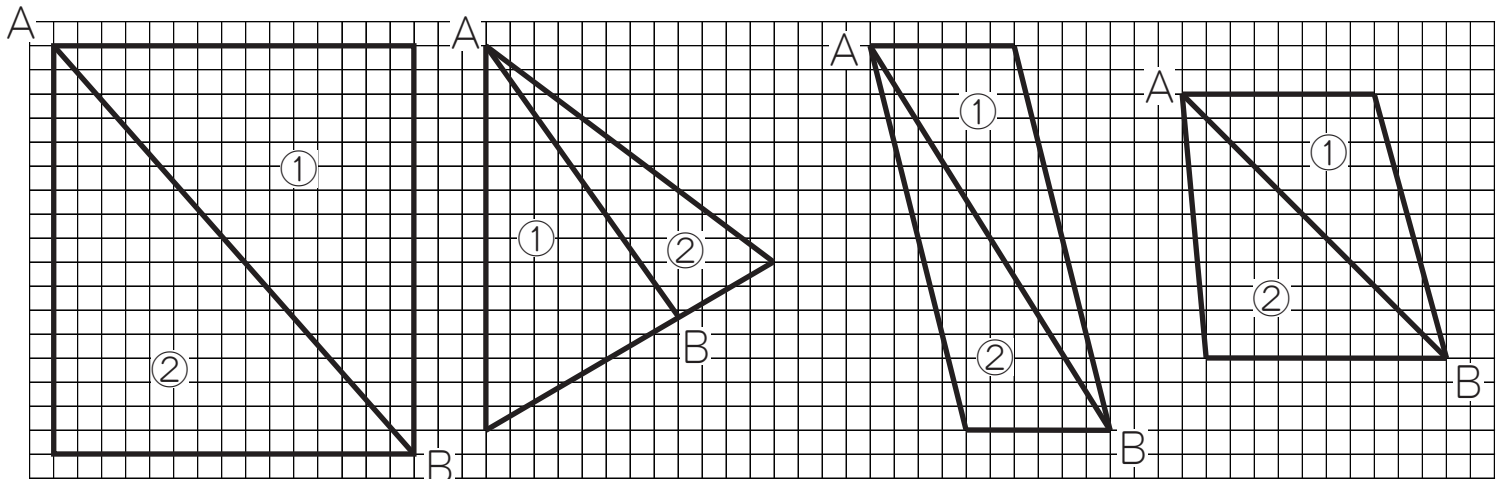
(2) 図アの辺AB、AC、BC、に対応する図イの辺を答えましょう。

答え 辺ABに対応する辺... DF 辺ACに対応する辺... DE
 辺BCに対応する辺... FE

(3) 図アの角A、B、C、に対応する図イの角を答えましょう。

答え 角Aに対応する角... D 角Bに対応する角... F
 角Cに対応する角... E

☆ 次の図のAからBに直線をかいたときにできる、二つの図形①と②は合同といえるでしょうか。合同といえるものの()に○をかきましょう。



(○)

()

(○)

()