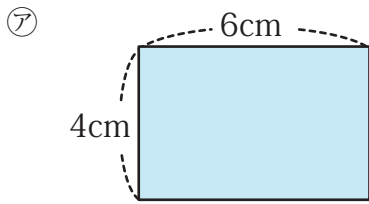


比と比の値 (1)

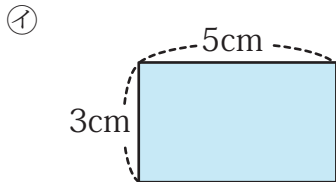
名前 _____

【1】 次の長方形の縦と横の長さの割合はどのようになるでしょう。比で表し、比の値も求めなさい。



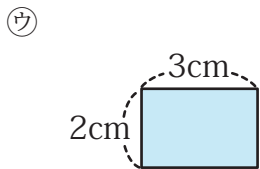
比 _____

比の値 _____



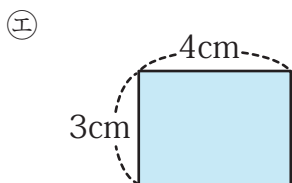
比 _____

比の値 _____



比 _____

比の値 _____



比 _____

比の値 _____

(1) ア～エの長方形の中で、縦と横の長さの割合の比の値が等しいものはどれとどれですか。

答え _____

と _____

【2】 6 : 8 と等しい比は、ア～オのうちのどれですか。全て答えなさい。

ア 12 : 18

イ 3 : 4

ウ 10.5 : 13.5

エ 7.8 : 10.4

オ $\frac{1}{4} : \frac{1}{3}$

答え _____