

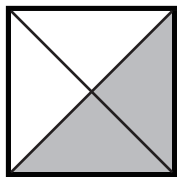
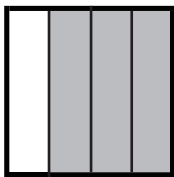


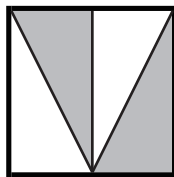
# 大きさの等しい分数 (2)

名前 \_\_\_\_\_

☆ 次のうち  $\frac{2}{3}$  と等しい数には○を、 $\frac{2}{6}$  と等しい数には×を書きましょう。

$\frac{8}{24}$	$\frac{4}{12}$	$\frac{4}{6}$	$1\frac{1}{5}$	$\frac{3}{18}$	$\frac{16}{24}$	$\frac{6}{18}$	$1\frac{1}{3}$	$\frac{2}{8}$	$\frac{1}{3}$	$\frac{8}{12}$
<input type="checkbox"/>	<input type="checkbox"/>	<input type="checkbox"/>	<input type="checkbox"/>	<input type="checkbox"/>	<input type="checkbox"/>	<input type="checkbox"/>	<input type="checkbox"/>	<input type="checkbox"/>	<input type="checkbox"/>	<input type="checkbox"/>

☆ 次の正方形のうち  $\frac{3}{4}$  の部分に色がぬられているものには  
下の□に○を書きましょう。

				
<input type="checkbox"/>	<input type="checkbox"/>	<input type="checkbox"/>	<input type="checkbox"/>	<input type="checkbox"/>

☆ 下の数を比べて□に等号、不等号を書きましょう。

(1) $\frac{6}{3}$ □ $\frac{6}{5}$	(2) $\frac{6}{5}$ □ $\frac{5}{2}$	(3) $\frac{5}{3}$ □ $\frac{5}{4}$
(4) $\frac{7}{4}$ □ $1\frac{7}{8}$	(5) $1\frac{7}{8}$ □ $\frac{7}{6}$	(6) $\frac{3}{6}$ □ $\frac{3}{4}$
(7) $\frac{4}{5}$ □ $\frac{4}{7}$	(8) $\frac{4}{7}$ □ $\frac{8}{14}$	(9) $\frac{2}{6}$ □ $\frac{2}{4}$