





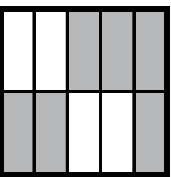
大きさの等しい分数 (3)

名前 _____

☆ 次のうち $\frac{4}{12}$ と等しい数には○を、 $\frac{3}{8}$ と等しい数には×を書きましょう。

$\frac{9}{24}$	$\frac{9}{36}$	$\frac{2}{6}$	$1\frac{4}{6}$	$\frac{6}{16}$	$\frac{1}{4}$	$\frac{8}{24}$	$1\frac{2}{3}$	$\frac{2}{4}$	$\frac{1}{3}$	$\frac{1}{6}$
<input type="checkbox"/>	<input type="checkbox"/>	<input type="checkbox"/>	<input type="checkbox"/>	<input type="checkbox"/>	<input type="checkbox"/>	<input type="checkbox"/>	<input type="checkbox"/>	<input type="checkbox"/>	<input type="checkbox"/>	<input type="checkbox"/>

☆ 次の正方形のうち $\frac{6}{10}$ の部分に色がぬられているものには
下の□に○を書きましょう。

				
<input type="checkbox"/>	<input type="checkbox"/>	<input type="checkbox"/>	<input type="checkbox"/>	<input type="checkbox"/>

☆ 下の数を比べて□に等号、不等号を書きましょう。

(1) $\frac{10}{3}$ □ $\frac{10}{2}$	(2) $\frac{10}{2}$ □ $\frac{15}{3}$	(3) $\frac{4}{3}$ □ $\frac{4}{2}$
(4) $\frac{8}{3}$ □ $2\frac{3}{5}$	(5) $2\frac{3}{5}$ □ $\frac{8}{5}$	(6) $\frac{8}{7}$ □ $\frac{8}{5}$
(7) $\frac{7}{6}$ □ $\frac{14}{12}$	(8) $\frac{14}{12}$ □ $\frac{21}{18}$	(9) $\frac{2}{3}$ □ $\frac{5}{6}$