

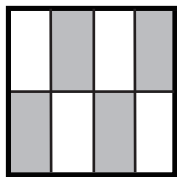
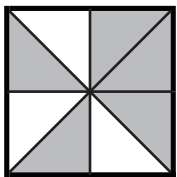

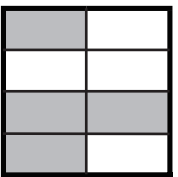

大きさの等しい分数 (5)

名前 _____

☆ 次のうち $\frac{4}{6}$ と等しい数には○を、 $\frac{12}{9}$ と等しい数には×を書きましょう。

$\frac{6}{6}$	$\frac{8}{12}$	$\frac{9}{12}$	$1\frac{6}{18}$	$\frac{6}{12}$	$\frac{4}{3}$	$\frac{2}{3}$	$1\frac{8}{6}$	$\frac{36}{27}$	$\frac{2}{6}$	$\frac{12}{18}$
<input type="checkbox"/>	<input type="checkbox"/>	<input type="checkbox"/>	<input type="checkbox"/>	<input type="checkbox"/>	<input type="checkbox"/>	<input type="checkbox"/>	<input type="checkbox"/>	<input type="checkbox"/>	<input type="checkbox"/>	<input type="checkbox"/>

☆ 次の正方形のうち $\frac{5}{8}$ の部分に色がぬられているものには
下の□に○を書きましょう。

				
<input type="checkbox"/>	<input type="checkbox"/>	<input type="checkbox"/>	<input type="checkbox"/>	<input type="checkbox"/>

☆ 下の数を比べて□に等号、不等号を書きましょう。

(1) $\frac{16}{8}$ □ $\frac{12}{4}$	(2) $\frac{12}{4}$ □ $\frac{24}{8}$	(3) $\frac{7}{5}$ □ $\frac{7}{7}$
(4) $\frac{9}{5}$ □ $1\frac{2}{6}$	(5) $1\frac{2}{6}$ □ $\frac{9}{8}$	(6) $\frac{3}{5}$ □ $\frac{3}{8}$
(7) $\frac{6}{4}$ □ $\frac{3}{4}$	(8) $\frac{3}{4}$ □ $\frac{6}{8}$	(9) $\frac{5}{15}$ □ $\frac{5}{10}$