



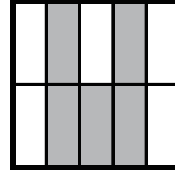


# 大きさの等しい分数 (1)

名前 \_\_\_\_\_

☆ 次のうち  $\frac{1}{4}$  と等しい数には○を、 $\frac{2}{5}$  と等しい数には×を書きましょう。

$\frac{8}{32}$	$\frac{2}{8}$	$\frac{1}{8}$	$1\frac{1}{4}$	$\frac{4}{10}$	$\frac{2}{3}$	$\frac{2}{10}$	$1\frac{1}{4}$	$\frac{6}{15}$	$\frac{3}{12}$	$\frac{8}{20}$
<input checked="" type="checkbox"/>	<input checked="" type="checkbox"/>	<input type="checkbox"/>	<input type="checkbox"/>	<input checked="" type="checkbox"/>	<input type="checkbox"/>	<input type="checkbox"/>	<input type="checkbox"/>	<input checked="" type="checkbox"/>	<input checked="" type="checkbox"/>	<input checked="" type="checkbox"/>

☆ 次の正方形のうち  $\frac{2}{5}$  の部分に色がぬられているものには  
下の□に○を書きましょう。

				
<input checked="" type="checkbox"/>	<input checked="" type="checkbox"/>	<input type="checkbox"/>	<input type="checkbox"/>	<input checked="" type="checkbox"/>

☆ 下の数を比べて□に等号、不等号を書きましょう。

(1) $\frac{5}{6}$ <input checked="" type="checkbox"/> $\frac{5}{8}$	(2) $\frac{5}{8}$ <input checked="" type="checkbox"/> $\frac{5}{7}$	(3) $\frac{7}{5}$ <input checked="" type="checkbox"/> $\frac{7}{6}$
(4) $\frac{4}{3}$ <input checked="" type="checkbox"/> $\frac{4}{5}$	(5) $\frac{4}{5}$ <input checked="" type="checkbox"/> $\frac{4}{4}$	(6) $\frac{8}{3}$ <input checked="" type="checkbox"/> $\frac{8}{5}$
(7) $\frac{2}{7}$ <input checked="" type="checkbox"/> $\frac{2}{9}$	(8) $\frac{2}{9}$ <input checked="" type="checkbox"/> $\frac{2}{5}$	(9) $\frac{1}{2}$ <input checked="" type="checkbox"/> $\frac{1}{5}$