

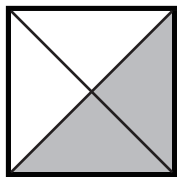
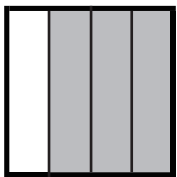



大きさの等しい分数 (2)

名前 _____

☆ 次のうち $\frac{2}{3}$ と等しい数には○を、 $\frac{2}{6}$ と等しい数には×を書きましょう。

| | | | | | | | | | | |
|-------------------------------------|-------------------------------------|-------------------------------------|--------------------------|--------------------------|-------------------------------------|-------------------------------------|--------------------------|--------------------------|-------------------------------------|-------------------------------------|
| $\frac{8}{24}$ | $\frac{4}{12}$ | $\frac{4}{6}$ | $1\frac{1}{5}$ | $\frac{3}{18}$ | $\frac{16}{24}$ | $\frac{6}{18}$ | $1\frac{1}{3}$ | $\frac{2}{8}$ | $\frac{1}{3}$ | $\frac{8}{12}$ |
| <input checked="" type="checkbox"/> | <input checked="" type="checkbox"/> | <input checked="" type="checkbox"/> | <input type="checkbox"/> | <input type="checkbox"/> | <input checked="" type="checkbox"/> | <input checked="" type="checkbox"/> | <input type="checkbox"/> | <input type="checkbox"/> | <input checked="" type="checkbox"/> | <input checked="" type="checkbox"/> |

☆ 次の正方形のうち $\frac{3}{4}$ の部分に色がぬられているものには
下の□に○を書きましょう。

| | | | | |
|--|--|--|---|--|
|  |  |  |  |  |
| <input type="checkbox"/> | <input checked="" type="checkbox"/> | <input checked="" type="checkbox"/> | <input checked="" type="checkbox"/> | <input type="checkbox"/> |

☆ 下の数を比べて□に等号、不等号を書きましょう。

| | | |
|--|--|---|
| (1) $\frac{6}{3}$ <input checked="" type="checkbox"/> $\frac{6}{5}$ | (2) $\frac{6}{5}$ <input checked="" type="checkbox"/> $\frac{5}{2}$ | (3) $\frac{5}{3}$ <input checked="" type="checkbox"/> $\frac{5}{4}$ |
| (4) $\frac{7}{4}$ <input checked="" type="checkbox"/> $1\frac{7}{8}$ | (5) $1\frac{7}{8}$ <input checked="" type="checkbox"/> $\frac{7}{6}$ | (6) $\frac{3}{6}$ <input checked="" type="checkbox"/> $\frac{3}{4}$ |
| (7) $\frac{4}{5}$ <input checked="" type="checkbox"/> $\frac{4}{7}$ | (8) $\frac{4}{7}$ <input checked="" type="checkbox"/> $\frac{8}{14}$ | (9) $\frac{2}{6}$ <input checked="" type="checkbox"/> $\frac{2}{4}$ |