

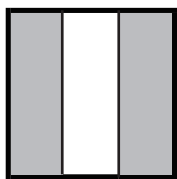
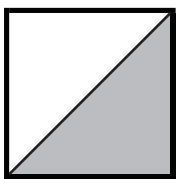

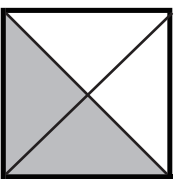

大きさの等しい分数 (4)

名前 _____

☆ 次のうち $\frac{6}{14}$ と等しい数には○を、 $\frac{8}{5}$ と等しい数には×を書きましょう。

$\frac{35}{25}$	$\frac{6}{7}$	$\frac{16}{10}$	$1\frac{9}{15}$	$\frac{4}{10}$	$\frac{3}{7}$	$\frac{22}{15}$	$1\frac{4}{5}$	$\frac{32}{20}$	$\frac{12}{28}$	$\frac{1}{12}$
<input type="checkbox"/>	<input type="checkbox"/>	<input checked="" type="checkbox"/>	<input checked="" type="checkbox"/>	<input type="checkbox"/>	<input checked="" type="checkbox"/>	<input type="checkbox"/>	<input type="checkbox"/>	<input checked="" type="checkbox"/>	<input checked="" type="checkbox"/>	<input type="checkbox"/>

☆ 次の正方形のうち $\frac{2}{3}$ の部分に色がぬられているものには
下の□に○を書きましょう。

				
<input checked="" type="checkbox"/>	<input type="checkbox"/>	<input checked="" type="checkbox"/>	<input type="checkbox"/>	<input type="checkbox"/>

☆ 下の数を比べて□に等号、不等号を書きましょう。

(1) $\frac{6}{18}$ <input checked="" type="checkbox"/> $\frac{12}{36}$	(2) $\frac{12}{36}$ <input checked="" type="checkbox"/> $\frac{3}{9}$	(3) $\frac{3}{4}$ <input checked="" type="checkbox"/> $\frac{3}{6}$
(4) $\frac{7}{5}$ <input checked="" type="checkbox"/> $1\frac{2}{3}$	(5) $1\frac{2}{3}$ <input checked="" type="checkbox"/> $\frac{7}{3}$	(6) $\frac{4}{8}$ <input checked="" type="checkbox"/> $\frac{6}{12}$
(7) $\frac{9}{6}$ <input checked="" type="checkbox"/> $\frac{2}{3}$	(8) $\frac{2}{3}$ <input checked="" type="checkbox"/> $\frac{9}{3}$	(9) $\frac{5}{3}$ <input checked="" type="checkbox"/> $\frac{5}{4}$