



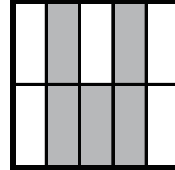


大きさの等しい分数 (1)

名前 _____

☆ 次のうち $\frac{1}{4}$ と等しい数には○を、 $\frac{2}{5}$ と等しい数には×を書きましょう。

$\frac{8}{32}$	$\frac{2}{8}$	$\frac{1}{8}$	$1\frac{1}{4}$	$\frac{4}{10}$	$\frac{2}{3}$	$\frac{2}{10}$	$1\frac{1}{4}$	$\frac{6}{15}$	$\frac{3}{12}$	$\frac{8}{20}$
<input type="checkbox"/>	<input type="checkbox"/>	<input type="checkbox"/>	<input type="checkbox"/>	<input type="checkbox"/>	<input type="checkbox"/>	<input type="checkbox"/>	<input type="checkbox"/>	<input type="checkbox"/>	<input type="checkbox"/>	<input type="checkbox"/>

☆ 次の正方形のうち $\frac{2}{5}$ の部分に色がぬられているものには
下の□に○を書きましょう。

				
<input type="checkbox"/>	<input type="checkbox"/>	<input type="checkbox"/>	<input type="checkbox"/>	<input type="checkbox"/>

☆ 下の数を比べて□に等号、不等号を書きましょう。

(1) $\frac{5}{6}$ □ $\frac{5}{8}$	(2) $\frac{5}{8}$ □ $\frac{5}{7}$	(3) $\frac{7}{5}$ □ $\frac{7}{6}$
(4) $\frac{4}{3}$ □ $\frac{4}{5}$	(5) $\frac{4}{5}$ □ $\frac{4}{4}$	(6) $\frac{8}{3}$ □ $\frac{8}{5}$
(7) $\frac{2}{7}$ □ $\frac{2}{9}$	(8) $\frac{2}{9}$ □ $\frac{2}{5}$	(9) $\frac{1}{2}$ □ $\frac{1}{5}$

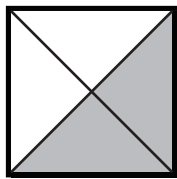
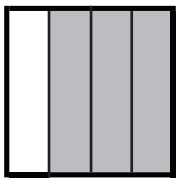



大きさの等しい分数 (2)

名前 _____

☆ 次のうち $\frac{2}{3}$ と等しい数には○を、 $\frac{2}{6}$ と等しい数には×を書きましょう。

$\frac{8}{24}$	$\frac{4}{12}$	$\frac{4}{6}$	$1\frac{1}{5}$	$\frac{3}{18}$	$\frac{16}{24}$	$\frac{6}{18}$	$1\frac{1}{3}$	$\frac{2}{8}$	$\frac{1}{3}$	$\frac{8}{12}$
<input type="checkbox"/>	<input type="checkbox"/>	<input type="checkbox"/>	<input type="checkbox"/>	<input type="checkbox"/>	<input type="checkbox"/>	<input type="checkbox"/>	<input type="checkbox"/>	<input type="checkbox"/>	<input type="checkbox"/>	<input type="checkbox"/>

☆ 次の正方形のうち $\frac{3}{4}$ の部分に色がぬられているものには
下の□に○を書きましょう。

				
<input type="checkbox"/>	<input type="checkbox"/>	<input type="checkbox"/>	<input type="checkbox"/>	<input type="checkbox"/>

☆ 下の数を比べて□に等号、不等号を書きましょう。

(1) $\frac{6}{3}$ □ $\frac{6}{5}$	(2) $\frac{6}{5}$ □ $\frac{5}{2}$	(3) $\frac{5}{3}$ □ $\frac{5}{4}$
(4) $\frac{7}{4}$ □ $1\frac{7}{8}$	(5) $1\frac{7}{8}$ □ $\frac{7}{6}$	(6) $\frac{3}{6}$ □ $\frac{3}{4}$
(7) $\frac{4}{5}$ □ $\frac{4}{7}$	(8) $\frac{4}{7}$ □ $\frac{8}{14}$	(9) $\frac{2}{6}$ □ $\frac{2}{4}$





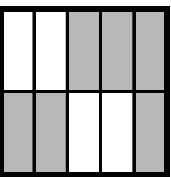
大きさの等しい分数 (3)

名前 _____

☆ 次のうち $\frac{4}{12}$ と等しい数には○を、 $\frac{3}{8}$ と等しい数には×を書きましょう。

$\frac{9}{24}$	$\frac{9}{36}$	$\frac{2}{6}$	$1\frac{4}{6}$	$\frac{6}{16}$	$\frac{1}{4}$	$\frac{8}{24}$	$1\frac{2}{3}$	$\frac{2}{4}$	$\frac{1}{3}$	$\frac{1}{6}$
<input type="checkbox"/>	<input type="checkbox"/>	<input type="checkbox"/>	<input type="checkbox"/>	<input type="checkbox"/>	<input type="checkbox"/>	<input type="checkbox"/>	<input type="checkbox"/>	<input type="checkbox"/>	<input type="checkbox"/>	<input type="checkbox"/>

☆ 次の正方形のうち $\frac{6}{10}$ の部分に色がぬられているものには
下の□に○を書きましょう。

				
<input type="checkbox"/>	<input type="checkbox"/>	<input type="checkbox"/>	<input type="checkbox"/>	<input type="checkbox"/>

☆ 下の数を比べて□に等号、不等号を書きましょう。

(1) $\frac{10}{3}$ □ $\frac{10}{2}$	(2) $\frac{10}{2}$ □ $\frac{15}{3}$	(3) $\frac{4}{3}$ □ $\frac{4}{2}$
(4) $\frac{8}{3}$ □ $2\frac{3}{5}$	(5) $2\frac{3}{5}$ □ $\frac{8}{5}$	(6) $\frac{8}{7}$ □ $\frac{8}{5}$
(7) $\frac{7}{6}$ □ $\frac{14}{12}$	(8) $\frac{14}{12}$ □ $\frac{21}{18}$	(9) $\frac{2}{3}$ □ $\frac{5}{6}$

大きさの等しい分数 (4)

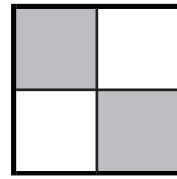
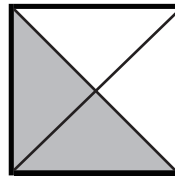
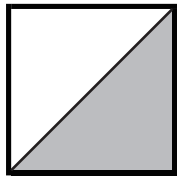

名前 _____

☆ 次のうち $\frac{6}{14}$ と等しい数には○を、 $\frac{8}{5}$ と等しい数には×を書きましょう。

$\frac{35}{25}$ $\frac{6}{7}$ $\frac{16}{10}$ $1\frac{9}{15}$ $\frac{4}{10}$ $\frac{3}{7}$ $\frac{22}{15}$ $1\frac{4}{5}$ $\frac{32}{20}$ $\frac{12}{28}$ $\frac{1}{12}$

☆ 次の正方形のうち $\frac{2}{3}$ の部分に色がぬられているものには

下の□に○を書きましょう。



☆ 下の数を比べて□に等号、不等号を書きましょう。

- | | | |
|---|--|---|
| (1) | (2) | (3) |
| $\frac{6}{18}$ <input type="checkbox"/> $\frac{12}{36}$ | $\frac{12}{36}$ <input type="checkbox"/> $\frac{3}{9}$ | $\frac{3}{4}$ <input type="checkbox"/> $\frac{3}{6}$ |
| (4) | (5) | (6) |
| $\frac{7}{5}$ <input type="checkbox"/> $1\frac{2}{3}$ | $1\frac{2}{3}$ <input type="checkbox"/> $\frac{7}{3}$ | $\frac{4}{8}$ <input type="checkbox"/> $\frac{6}{12}$ |
| (7) | (8) | (9) |
| $\frac{9}{6}$ <input type="checkbox"/> $\frac{2}{3}$ | $\frac{2}{3}$ <input type="checkbox"/> $\frac{9}{3}$ | $\frac{5}{3}$ <input type="checkbox"/> $\frac{5}{4}$ |






大きさの等しい分数 (5)

名前 _____

☆ 次のうち $\frac{4}{6}$ と等しい数には○を、 $\frac{12}{9}$ と等しい数には×を書きましょう。

$\frac{6}{6}$	$\frac{8}{12}$	$\frac{9}{12}$	$1\frac{6}{18}$	$\frac{6}{12}$	$\frac{4}{3}$	$\frac{2}{3}$	$1\frac{8}{6}$	$\frac{36}{27}$	$\frac{2}{6}$	$\frac{12}{18}$
<input type="checkbox"/>	<input type="checkbox"/>	<input type="checkbox"/>	<input type="checkbox"/>	<input type="checkbox"/>	<input type="checkbox"/>	<input type="checkbox"/>	<input type="checkbox"/>	<input type="checkbox"/>	<input type="checkbox"/>	<input type="checkbox"/>

☆ 次の正方形のうち $\frac{5}{8}$ の部分に色がぬられているものには
下の□に○を書きましょう。

				
<input type="checkbox"/>	<input type="checkbox"/>	<input type="checkbox"/>	<input type="checkbox"/>	<input type="checkbox"/>

☆ 下の数を比べて□に等号、不等号を書きましょう。

(1) $\frac{16}{8}$ □ $\frac{12}{4}$	(2) $\frac{12}{4}$ □ $\frac{24}{8}$	(3) $\frac{7}{5}$ □ $\frac{7}{7}$
(4) $\frac{9}{5}$ □ $1\frac{2}{6}$	(5) $1\frac{2}{6}$ □ $\frac{9}{8}$	(6) $\frac{3}{5}$ □ $\frac{3}{8}$
(7) $\frac{6}{4}$ □ $\frac{3}{4}$	(8) $\frac{3}{4}$ □ $\frac{6}{8}$	(9) $\frac{5}{15}$ □ $\frac{5}{10}$