



ふえると いくつ

		なまえ
がつ	にち	

ちょうが 4ひき います。



2ひき とんで きました。



あわせて なんびきに なりますか。

しき

たす




は





ぜんぶで なんほんに なりますか。

しき



みんなで なんびきに なりますか。

しき