



ふえると いくつ

		なまえ
がつ	にち	

ちょうが 4ひき います。



2ひき とんで きました。



あわせて なんびきに なりますか。

しき

4

たす

+

2

は

=


6



ぜんぶで なんほんに なりますか。

しき

3 + 4 = 7



みんなで なんびきに なりますか。

しき

5 + 3 = 8