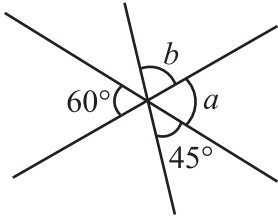


平行線と角 (3)

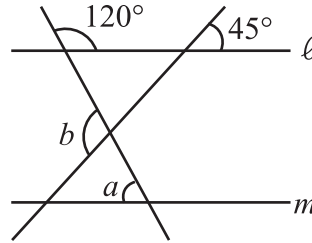
【1】次の図で、 $\angle a$, $\angle b$ の大きさを答えなさい。

(1)



答え _____

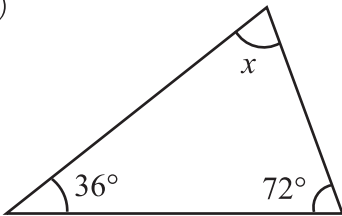
(2) $\ell // m$ のとき。



答え _____

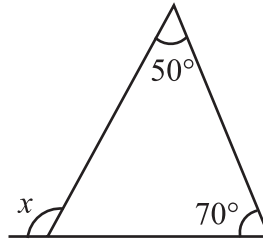
【2】次の図で、 $\angle x$ の大きさを答えなさい。

(1)



答え _____

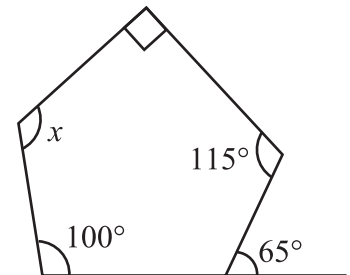
(2)



答え _____

【3】次の図で、 $\angle x$ の大きさを答えなさい。

答え _____



【4】次の問いに答えなさい。

(1) 七角形の内角の和は何度か答えなさい。

答え _____

(2) 正十角形の1つの内角の大きさを答えなさい。

答え _____

(3) 1つの外角が 45° の正多角形の名前を答えなさい。

答え _____