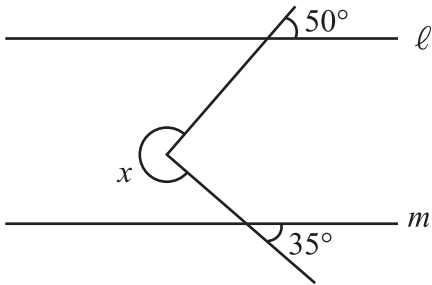


平行線と角 (5)

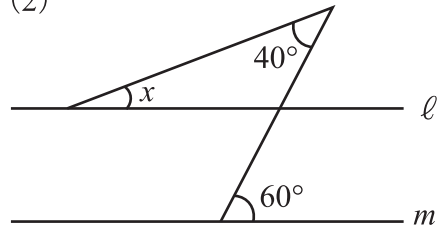
【1】次の図で $l \parallel m$ のとき、 $\angle x$ の大きさを答えなさい。

(1)



答え _____

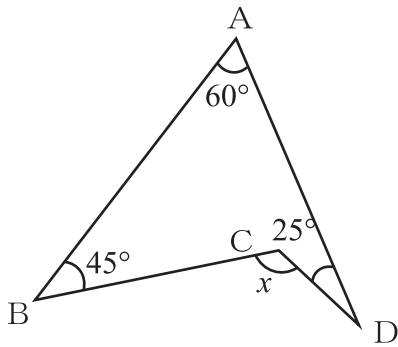
(2)



答え _____

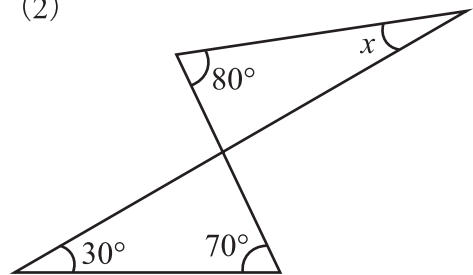
【2】次の図で、 $\angle x$ の大きさを答えなさい。

(1)



答え _____

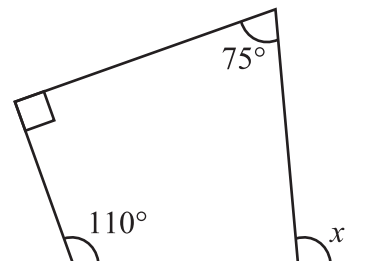
(2)



答え _____

【3】次の図で、 $\angle x$ の大きさを答えなさい。

答え _____



【4】正八角形の内角と外角の比を、整数の比で表しなさい。

答え _____