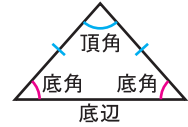
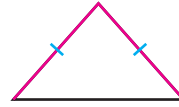


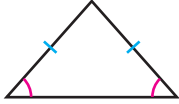
三角形 (1)

二等辺三角形

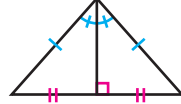
定義：2つの辺が等しい三角形を二等辺三角形という。



二等辺三角形の性質



① 定理：二等辺三角形の底角は等しい。



② 定理：二等辺三角形の頂角の二等分線は、底辺を垂直に二等分する。

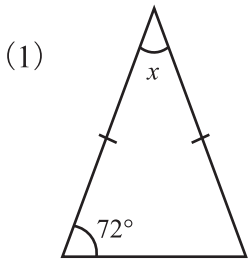
ていぎ
定義…言葉の意味をはっきりと述べたもの

ていり
定理…証明されたことがらのうちで、よく使われる大切なもの

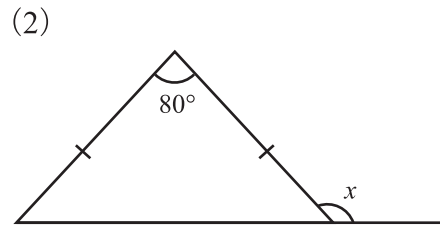
二等辺三角形になるための条件

定理：2つの角が等しい三角形は、その2つの角を底角とする二等辺三角形である。

【1】次の図で、 $\angle x$ の大きさを答えなさい。



答え _____



答え _____

【2】 $AB = AC$ の二等辺三角形 ABC で、角 A の二等分線と辺 BC の交点を P としたとき、 $BP = CP$ であることを証明したい。次の□をうめて、証明を完成させなさい。

$\triangle ABP$ と $\triangle ACP$ で、

仮定より、 $AB =$ … ①

$\angle BAP =$ … ②

また、共通な辺だから、

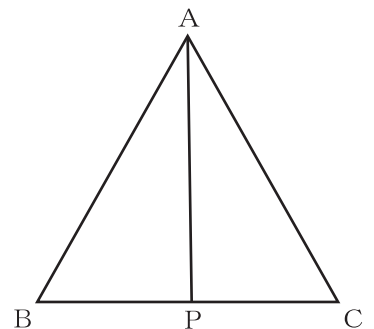
… ③

①, ②, ③より、 がそれぞれ等しいので、

$\triangle ABP \equiv$

は等しいから、

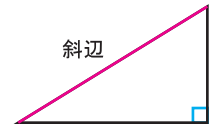
$BP = CP$



三角形 (2)

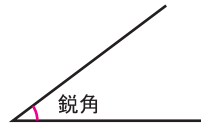
直角三角形

定義：1つの内角が直角の三角形を**直角三角形**という。
 直角三角形の、直角に向かい合う辺を**斜辺**という。

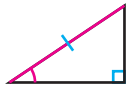
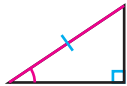


鋭角と鈍角

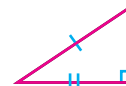
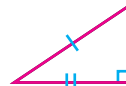
90°より小さい角を**鋭角**，
 90°より大きく、180°より小さい角を**鈍角**という。



直角三角形の合同条件



① 斜辺と1つの鋭角がそれぞれ等しい。



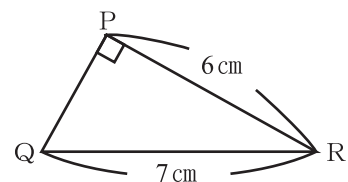
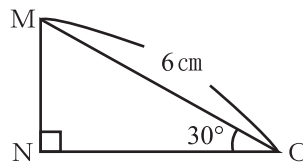
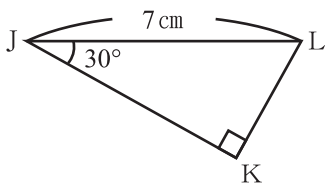
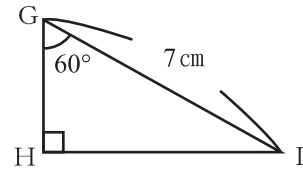
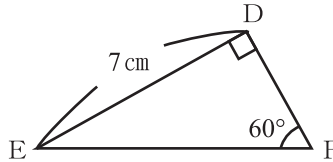
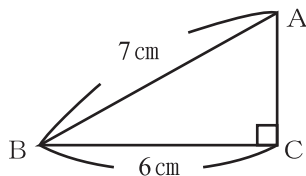
② 斜辺と他の1辺がそれぞれ等しい。

逆

「●●ならば▲▲」という定理の、仮定と結論をいれかえた
 「▲▲ならば●●」を、その定理の**逆**という。
 正しいことがらの逆が、いつも正しいとは限らない。
 逆が正しくないことを示すには、**反例**を1つあげればよい。

はんれい
反例…あることがらが
 成り立たないことを
 示す例

【1】下の図で、合同な直角三角形を見つけ、記号≡を使って表しなさい。
 また、そのときに使った直角三角形の合同条件を答えなさい。



答え

•

条件

•

条件

【2】次のことがらの逆を答えなさい。また、それが正しい場合は()に○を、正しくない場合は×をかき、反例を1つあげなさい。

(1) a と b のどちらも奇数ならば ab は奇数である。

逆

() 反例

(2) a が偶数、 b が奇数ならば ab は偶数である。

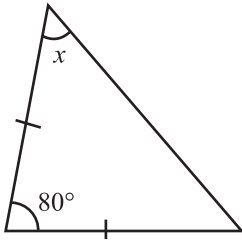
逆

() 反例

三角形 (3)

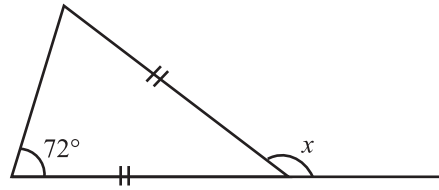
【1】次の図で、 $\angle x$ の大きさを答えなさい。

(1)



答え _____

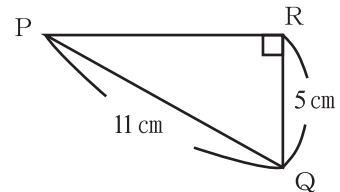
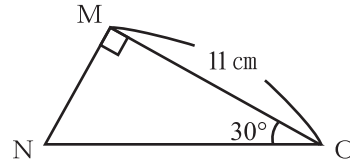
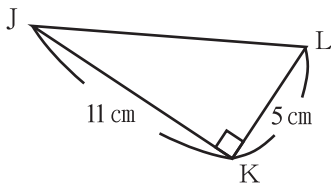
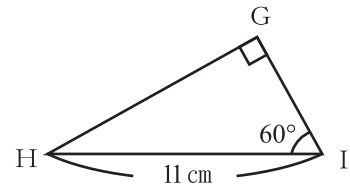
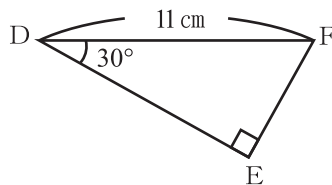
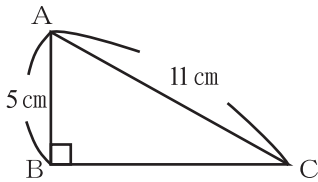
(2)



答え _____

【2】下の図で、合同な直角三角形を見つけ、記号 \equiv を使って表しなさい。

また、そのときに使った三角形の合同条件を答えなさい。



答え

•

条件

•

条件

【3】次のことがらの逆を答えなさい。また、それが正しい場合は()に○を、正しくない場合は×をかき、反例を1つあげなさい。

(1) 2 直線に 1 つの直線が交わるとき、2 直線が平行ならば錯角は等しい。

逆

() 反例

(2) $a > 0$, $b > 0$ ならば $ab > 0$

逆

() 反例

(3) 2 つの辺が等しい三角形は二等辺三角形である。

逆

() 反例

三角形 (4)

【1】 $AB = AC$ の二等辺三角形 ABC で、 $BE = CD$ となるように点 D, E をとり、
 BD と CE の交点を P とする。このとき、 $\triangle PBC$ が二等辺三角形であることを証明したい。
 次の \square をうめて、証明を完成させなさい。

$\triangle EBC$ と \square で、仮定より

$BE = \square \dots \textcircled{1}$

$\angle EBC = \square \dots \textcircled{2}$

共通な辺だから、 $\square \dots \textcircled{3}$

$\textcircled{1}, \textcircled{2}, \textcircled{3}$ より、 \square がそれぞれ等しいので、

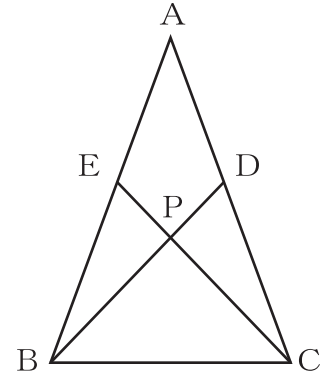
$$\triangle EBC \equiv \triangle DCB$$

合同な図形の対応する角は等しいから、

$$\angle ECB = \square$$

したがって、 $\angle PCB = \angle PBC$

$\triangle PBC$ において、2つの角が等しいので、 $\triangle PBC$ は二等辺三角形である。



【2】 $AB = AC$ の二等辺三角形 ABC で、辺 BC の中点を M とする。
 M から辺 AB, AC まで垂線を引き、交点をそれぞれ D, E とする。
 このとき、 $DB = EC$ であることを証明したい。
 次の \square をうめて、証明を完成させなさい。

$\triangle DBM$ と $\triangle ECM$ で、

仮定より、 $\angle BDM = \square = 90^\circ \dots \textcircled{1}$

$BM = \square \dots \textcircled{2}$

$\angle DBM = \square \dots \textcircled{3}$

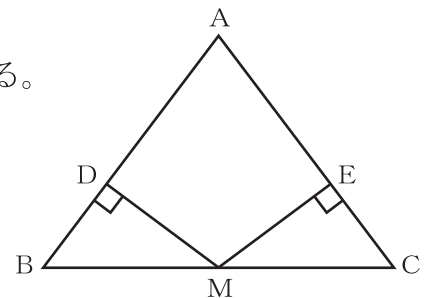
$\textcircled{1}, \textcircled{2}, \textcircled{3}$ より、

\square がそれぞれ等しいので、

$$\triangle DBM \equiv \triangle ECM$$

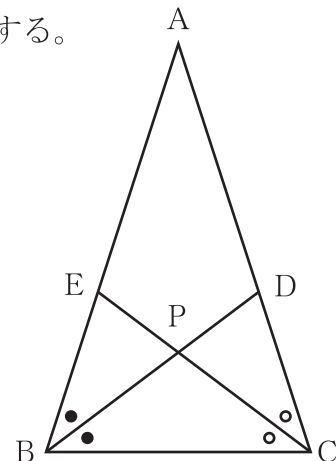
\square は等しいから、

$$DB = EC$$



三角形 (5)

【1】 $AB = AC$ の二等辺三角形 ABC で、 $\angle B$ 、 $\angle C$ の二等分線を引き、
 辺 AC 、 AB との交点を D 、 E とする。また、 BD と CE の交点を P とする。
 次の問いに答えなさい。



(1) $\triangle PBC$ が二等辺三角形であることを証明したい。

次の□をうめて、証明を完成させなさい。

$\triangle EBC$ と で、

仮定より、 $\angle EBC =$... ①

$\angle DBC =$... ②

$\angle ECB =$... ③

①、②、③より、 $\angle DBC =$

したがって、 $\angle PBC = \angle PCB$

$\triangle PBC$ において、2つの角が等しいので、 $\triangle PBC$ は二等辺三角形である。

(2) $\angle A = 40^\circ$ のとき、 $\angle BPC$ の大きさを求めなさい。

答え _____

【2】 $BA = BC$ の二等辺三角形 ABC で、頂点 C 、 A から辺 AB 、 BC まで
 垂線を引き、交点をそれぞれ D 、 E とする。このとき、 $BD = BE$ で
 あることを証明しなさい。

