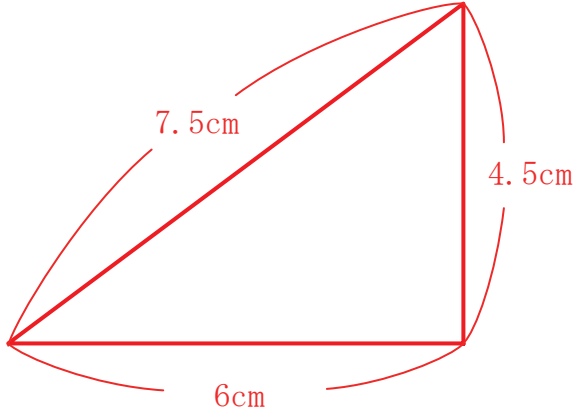


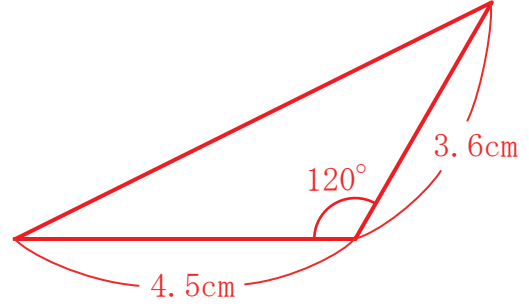
【1】 次の三角形の1.5倍の拡大図をかきなさい。

- (1) 3辺の長さが3cm、4cm、5cmの三角形。
- (2) 2辺の長さが3cm、2.4cmで、その間の角が 120° の三角形。
- (3) 1辺の長さが3.2cmで、その両端の角が 60° の三角形。

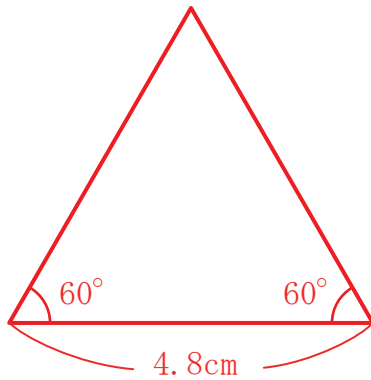
(1)



(2)

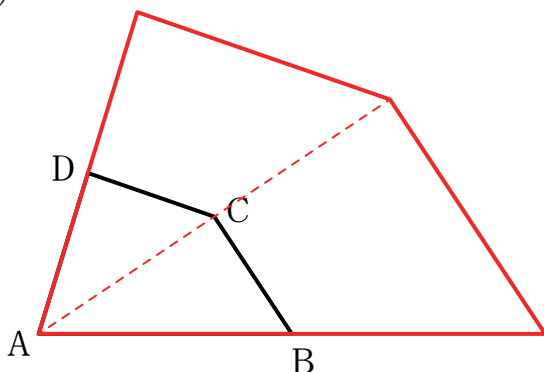


(3)



【2】 次の四角形ABCDの点Aを中心とした2倍の拡大図をかきなさい。

(1)



(2)

