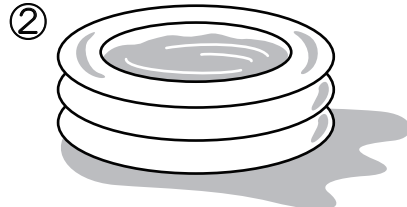



# かわり方 (7)

名前 \_\_\_\_\_

☆ ①と②のビニールプールがあります。それぞれの底にあるせんを開けて水をぬくと、下の表のようにプールの中の水の量がかわっていきます。



①のプールの水の量の変わり方

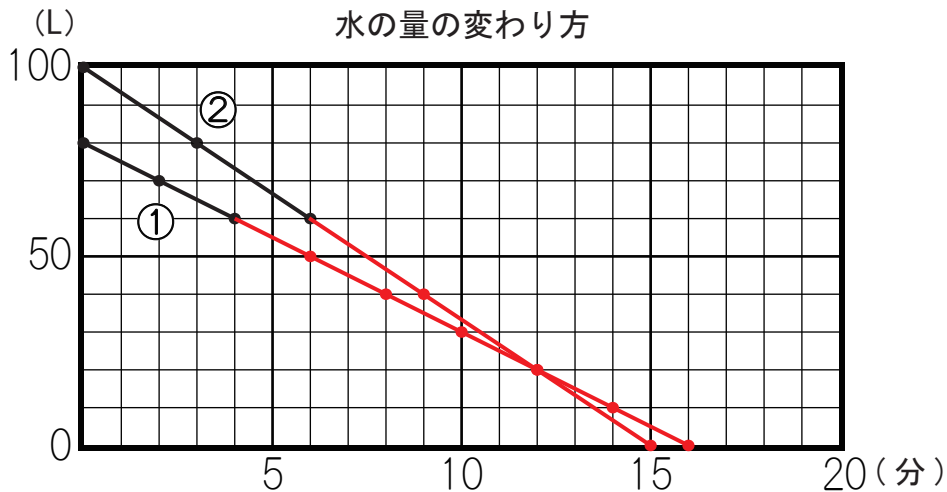
時間 (分)	0	2	4	6	8	.....
水の量 (L)	80	70	60	50	40	.....

②のプールの水の量の変わり方

時間 (分)	0	3	6	9	12	.....
水の量 (L)	100	80	60	40	20	.....

(1) 上の表のあいているところにあてはまる数を書きましょう。

(2) ①と②のプールの水の量の変わり方をグラフに表しましょう。



(3) ①と②のどちらのプールの水が、先になくなるでしょうか。

答 ②