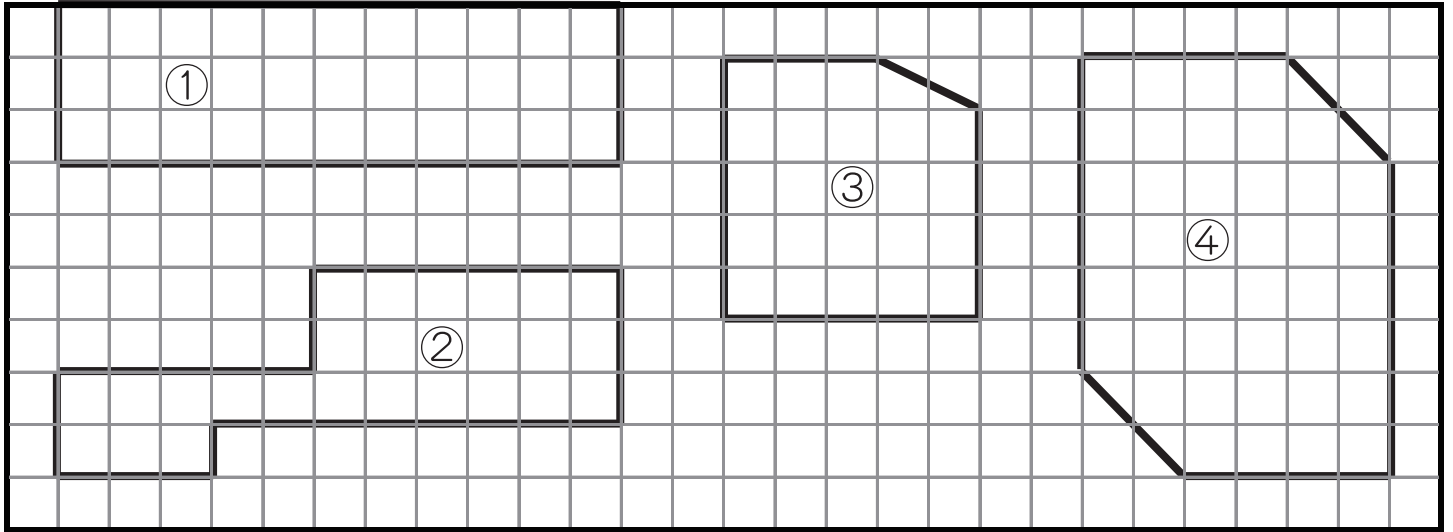


# 面積 (3)

名前 \_\_\_\_\_

☆ 次の図形を面積の広い順に答えましょう。



1番広いもの

2番目

3番目

4番目

答え

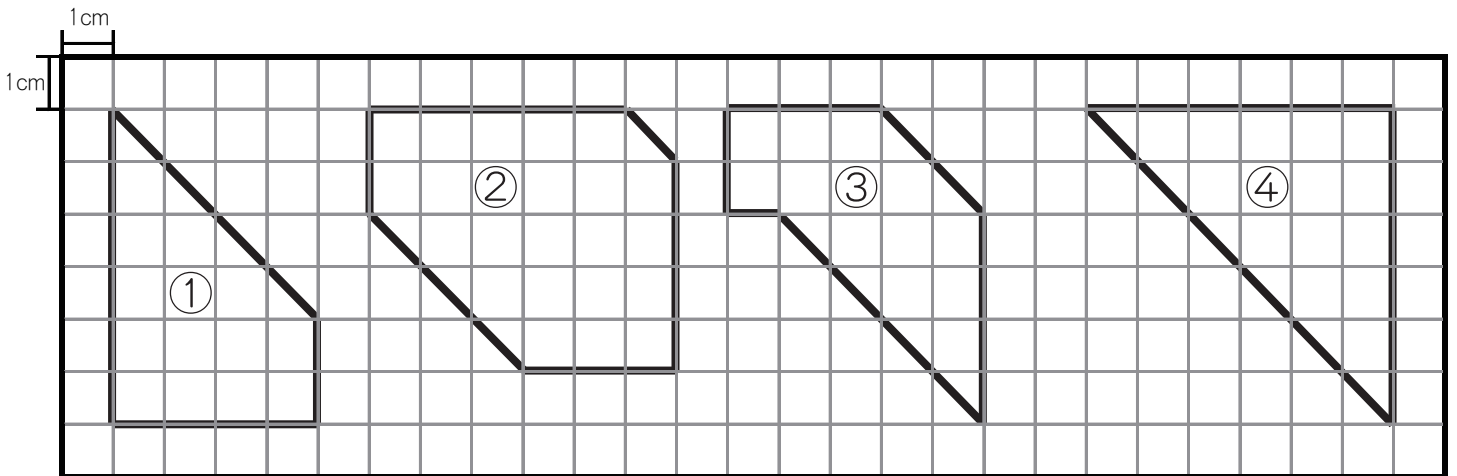
④

①

②

③

☆ 次の図形の面積を答えましょう。



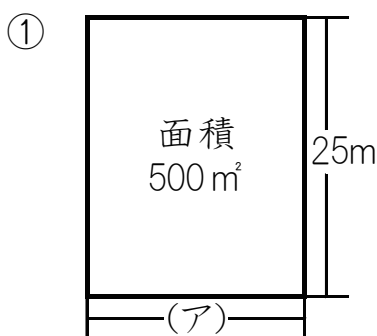
答え①  $16\text{cm}^2$

答え②  $25\text{cm}^2$

答え③  $16\text{cm}^2$

答え④  $18\text{cm}^2$

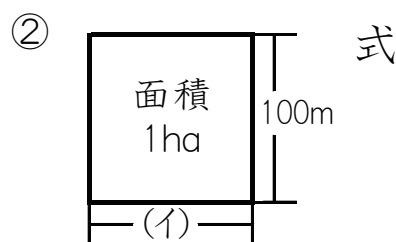
☆ 図のような土地があります。(ア)(イ)の長さは何メートルでしょう。



式

$$500 \div 25 = 20$$

答え 20m



式

1haは10000m<sup>2</sup>だから

$$10000 \div 100 = 100$$

答え 100m