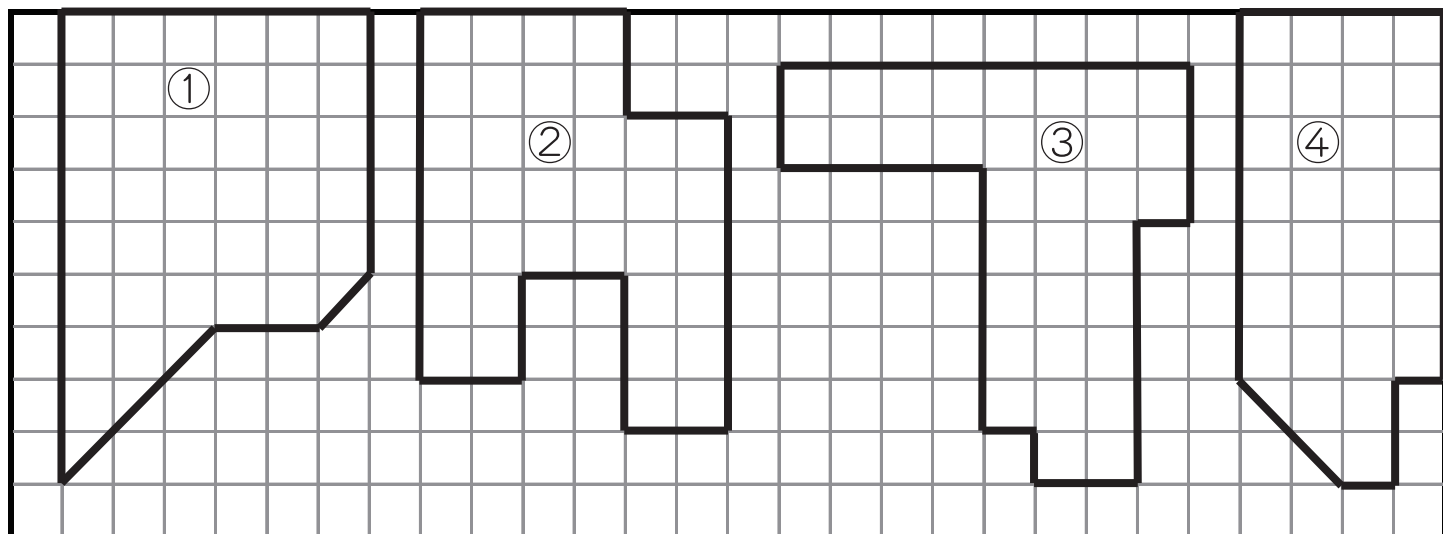


# 面積 (4)

名前 \_\_\_\_\_

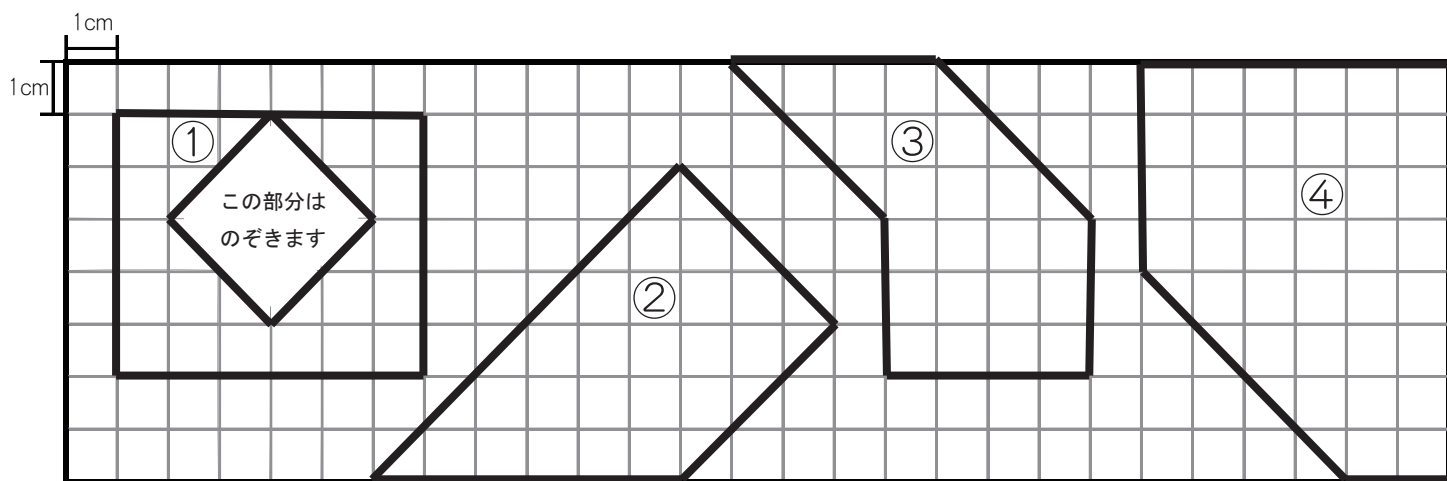
☆ 次の図形を面積の広い順に答えましょう。



1番広いもの    2番目    3番目    4番目

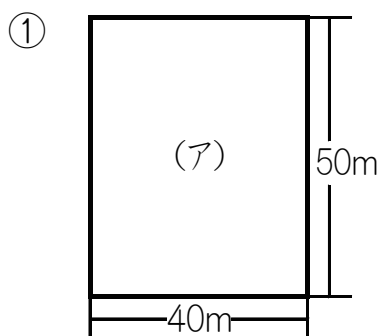
答え ①                      ②                      ③                      ④

☆ 次の図形の面積を答えましょう。



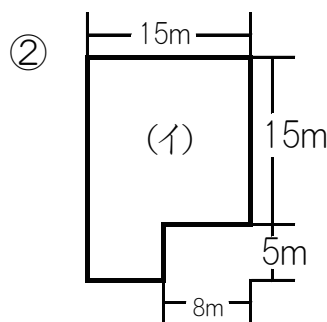
答え①  $22\text{cm}^2$       答え②  $27\text{cm}^2$       答え③  $24\text{cm}^2$       答え④  $40\text{cm}^2$

☆ 図のような土地があります。(ア)(イ)の面積を求めましょう。



式  
 $50 \times 40 = 2000$

答え  $2000\text{m}^2$



式  
式は一例です  
 $15 \times 15 = 225$   
 $5 \times 15 - 5 \times 8 = 35$   
 $225 + 35 = 260$

答え  $260\text{m}^2$