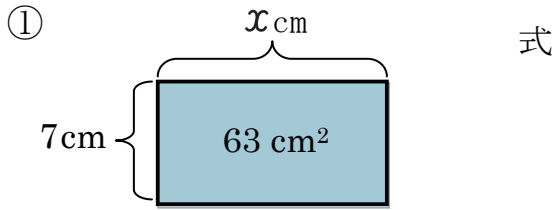


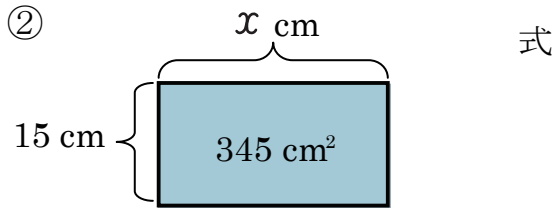
# 文字を使った式 (1)

名前 \_\_\_\_\_

【1】 次の図形の  $x$  をもとめましょう。

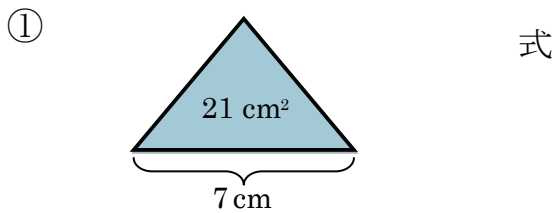


答え \_\_\_\_\_ cm

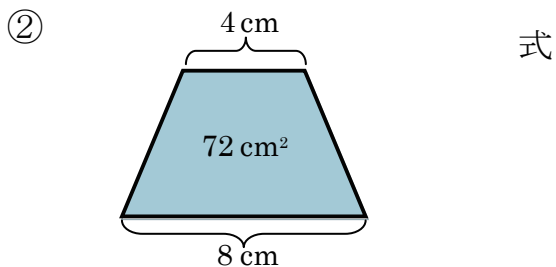


答え \_\_\_\_\_ cm

【2】 次の図形の高さをもとめましょう。



答え \_\_\_\_\_



答え \_\_\_\_\_

【3】 次の問題に答えましょう。

周りの長さが 18cm の長方形があります。

① 縦の長さを  $a$  cm、横の長さを  $b$  cm として、縦の長さ と 横の長さ と 周りの長さ の関係を式に表わしましょう。

② 横の長さが 4 cm の時、縦の長さは 何cm でしょうか。

式

答え \_\_\_\_\_