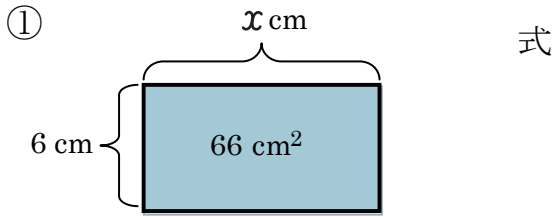


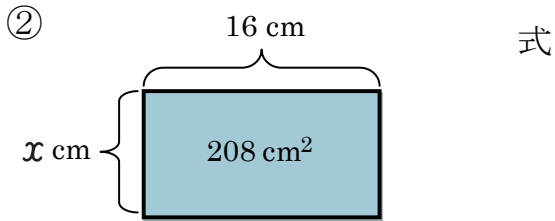
文字を使った式 (2)

名前 _____

【1】 次の図形の x を求めましょう。

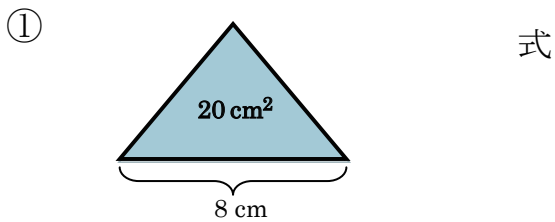


答え _____ cm

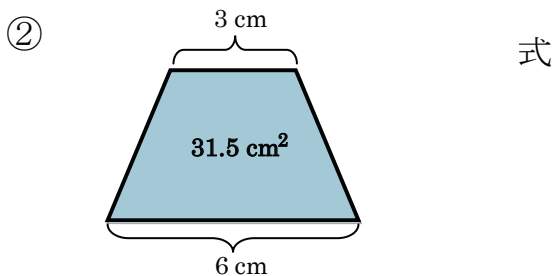


答え _____ cm

【2】 次の図形の高さを求めましょう。



答え _____



答え _____

【3】 次の問題に答えましょう。

50 円のりんごを 5 個とバナナを 2 本買ったなら、代金は 410 円でした。バナナ 1 本の値段は、何円でしょうか。バナナ 1 本の値段を x 円として式に表わし、答えを求めましょう。

式

答え _____