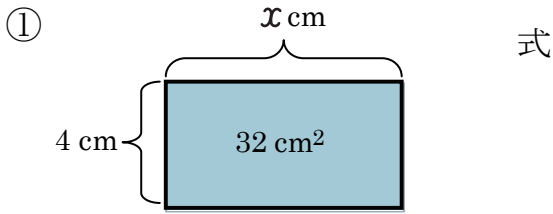


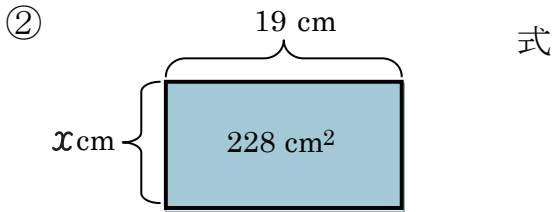
文字を使った式 (3)

名前 _____

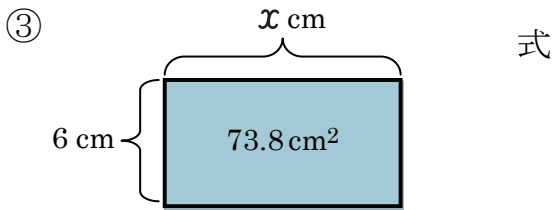
【1】 次の図形の x をもとめましょう。



答え _____ cm

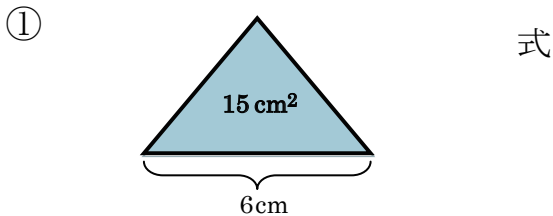


答え _____ cm

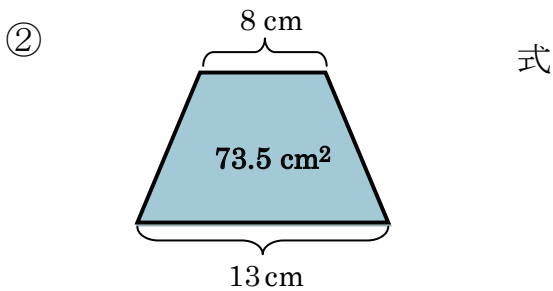


答え _____ cm

【2】 次の図形の高さをもとめましょう。



答え _____



答え _____

【3】 次の問題に答えましょう。

底辺が 5 cm の平行四辺形があります。この平行四辺形の面積が 60 cm^2 の時、高さは何 cm でしょうか？

式

答え _____