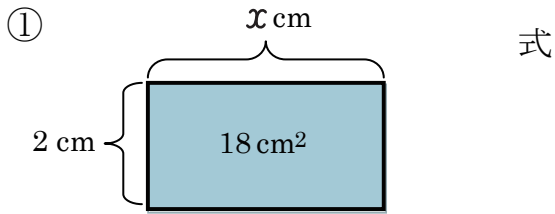


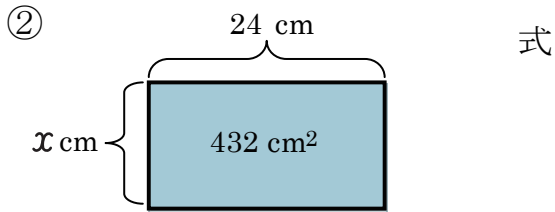
文字を使った式 (4)

名前 _____

【1】 次の図形の x をもとめましょう。

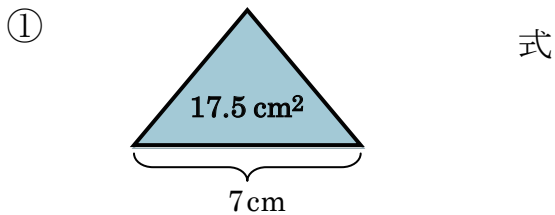


答え _____ cm

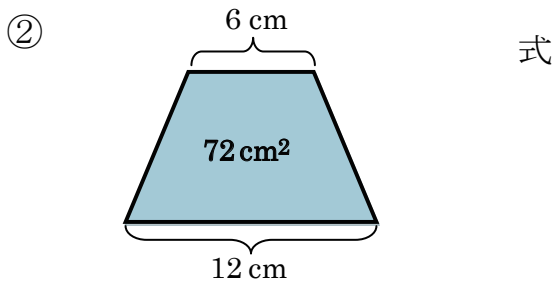


答え _____ cm

【2】 次の図形の高さをもとめましょう。



答え _____



答え _____

【3】 次の問題に答えましょう。

周りの長さが 24cm の長方形があります。

① 縦の長さを a cm、横の長さを b cm として、縦の長さ、横の長さ、周りの長さの関係を式に表わしましょう。

② 横の長さが 5cm の時、縦の長さは何cm でしょうか？

式

答え _____

③ ②の時、この長方形の面積は何 cm^2 でしょうか？

式

答え _____