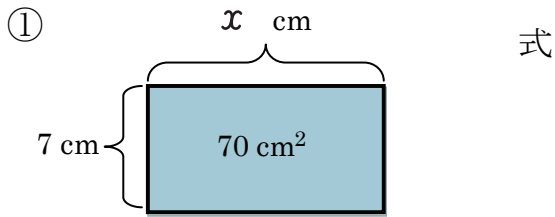


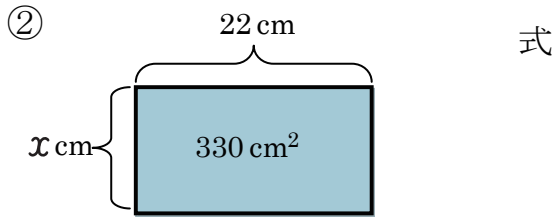
# 文字を使った式 (5)

名前 \_\_\_\_\_

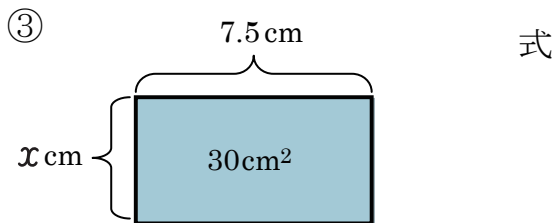
【1】 次の図形の  $x$  をもとめましょう。



答え \_\_\_\_\_ cm

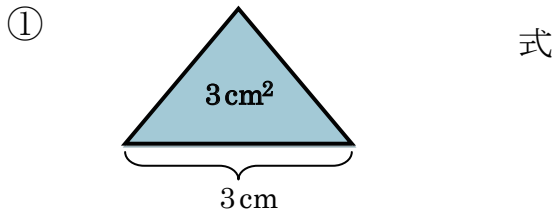


答え \_\_\_\_\_ cm

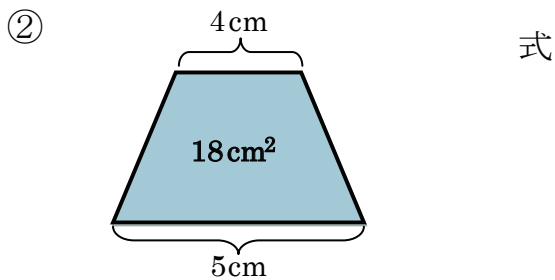


答え \_\_\_\_\_ cm

【2】 次の図形の高さをもとめましょう。



答え \_\_\_\_\_



答え \_\_\_\_\_

【3】 次の問題に答えましょう。

10円玉が13まいと、50円玉が何まいかあります。全部あわせると380円になります。50円玉は何まいありますか？

式

答え \_\_\_\_\_