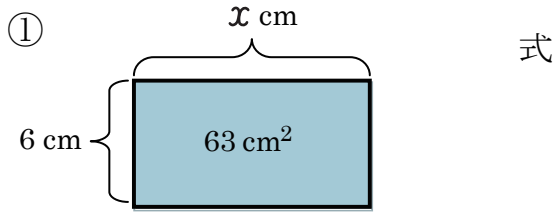


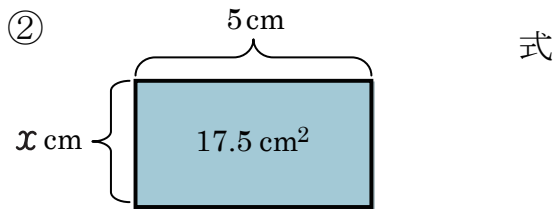
# 文字を使った式 (6)

名前 \_\_\_\_\_

【1】 次の図形の  $x$  をもとめましょう。

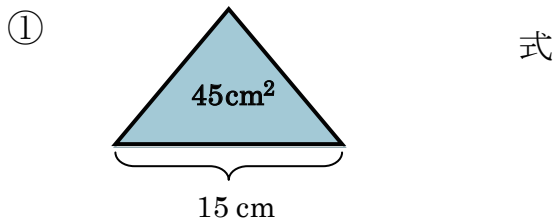


答え \_\_\_\_\_ cm

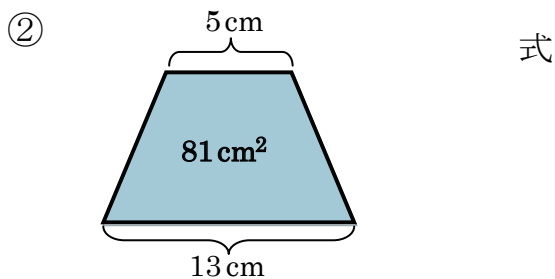


答え \_\_\_\_\_ cm

【2】 次の図形の高さをもとめましょう。



答え \_\_\_\_\_



答え \_\_\_\_\_

【3】 次の問題に答えましょう。

1本  $x$  円のジュースを買います。

① このジュースを8本買って、1000円を出したときのおつりを、 $x$  を使った式に表しましょう。

② このジュースのねだんは、1本120円でした。8本買って、1000円を出したときのおつりは何円でしょうか。

式

答え \_\_\_\_\_