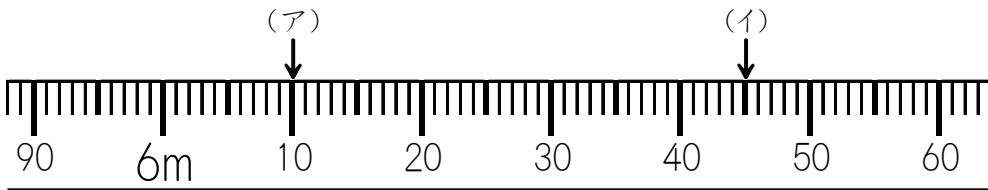


長さときより(1)

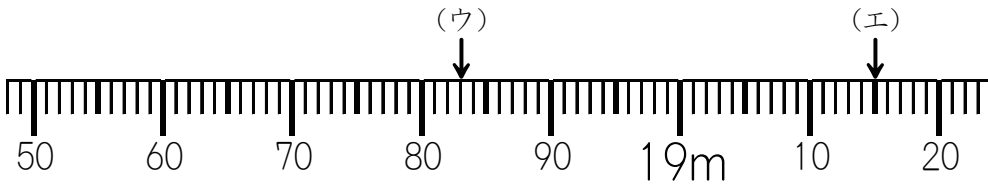
名前 _____

1、↓のメモリの表す長さをたんに気をつけて答えましょう。



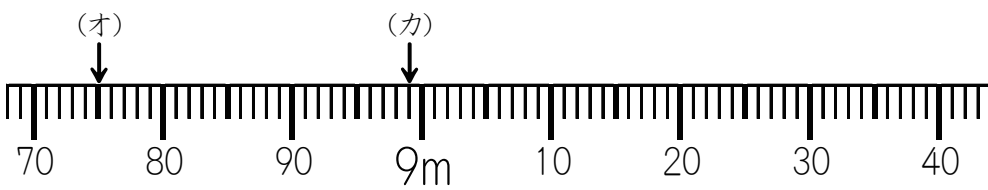
(ア) 答え	
-----------	--

(イ) 答え	
-----------	--



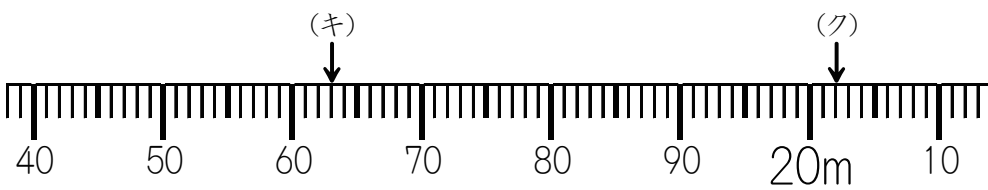
(ウ) 答え	
-----------	--

(エ) 答え	
-----------	--



(オ) 答え	
-----------	--

(カ) 答え	
-----------	--



(キ) 答え	
-----------	--

(ク) 答え	
-----------	--

2、□にあてはまる数字やたんに書きましょう。

- ① 1000m = □ km ② 100cm = □ m ③ 10mm = □ cm
 ④ 3km = □ m ⑤ 5m = □ cm ⑥ 20cm = □ mm
 ⑦ 2600m = □ km □ m ⑧ 3 km 650 m = □ m

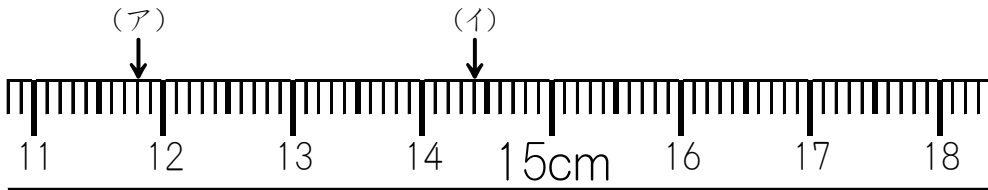
3、□にあてはまる長さのたんに書きましょう。

- ① つくえのたての長さ..... 45 □
 ② 東京と大さかのきより..... 396 □
 ③ 校しゃのはじからはじまでの長さ..... 30 □
 ④ じょうぎの一番小さなメモリの長さ..... 1 □
 ⑤ 東京スカイツリーの高さ..... 634 □

長さときより(2)

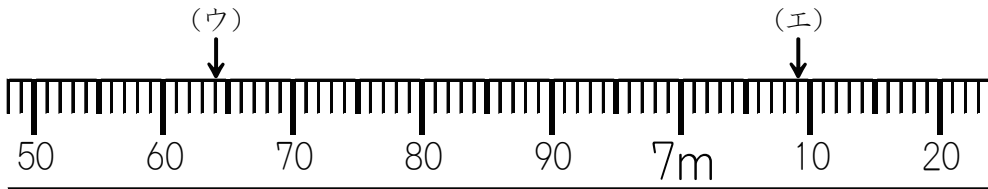
名前 _____

1、↓のメモリの表す長さをたんに気をつけて 答えましょう。



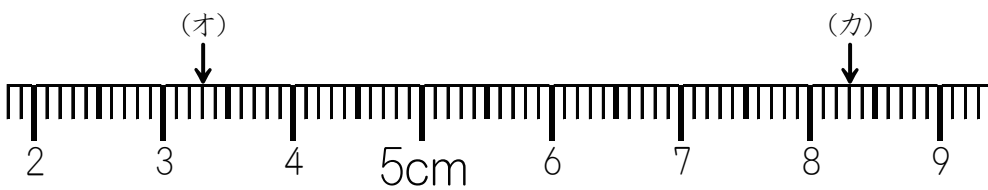
(ア) 答え	
-----------	--

(イ) 答え	
-----------	--



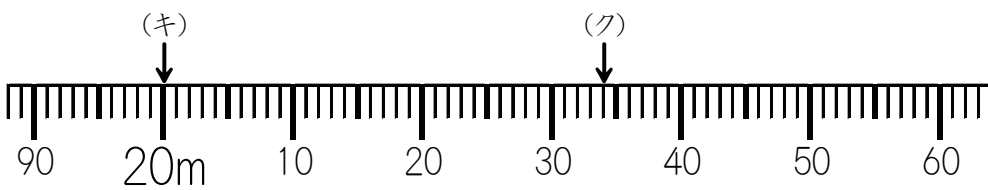
(ウ) 答え	
-----------	--

(エ) 答え	
-----------	--



(オ) 答え	
-----------	--

(カ) 答え	
-----------	--



(キ) 答え	
-----------	--

(ク) 答え	
-----------	--

2、□にあてはまる数字や たんに書きましょう。

- ① 3000m = □ km ② 500cm = □ m ③ 30mm = □ cm
 ④ 2km = □ m ⑤ 10m = □ cm ⑥ 15cm = □ mm
 ⑦ 4800m = □ km □ m ⑧ 1 km 985 m = □ m

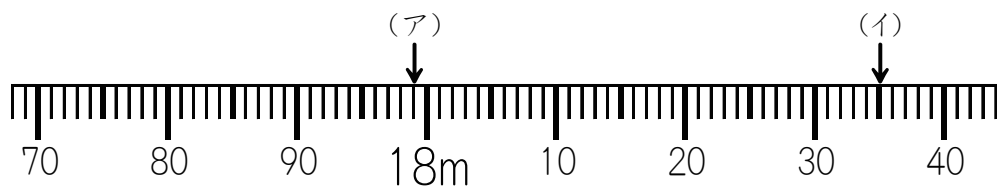
3、□にあてはまる 長さのたんに書きましょう。

- ① 友だちの身長..... 128 □
 ② プールの長さ..... 25 □
 ③ 富士山の高さ..... 3776 □
 ④ アリの大きさ..... 4 □
 ⑤ 山登りの道のり..... 3 □

長さときより (3)

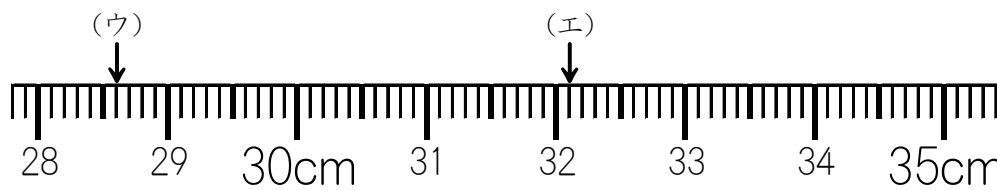
名前 _____

1、↓のメモリの表す長さをたんに気をつけて 答えましょう。



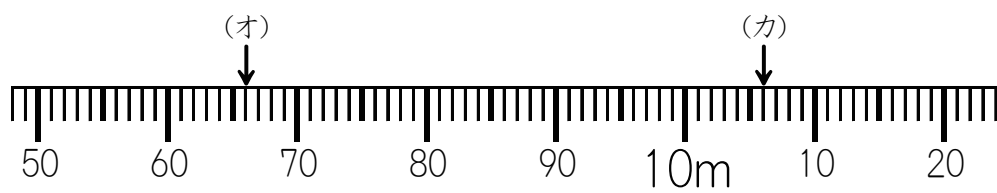
(ア)	
答え	

(イ)	
答え	



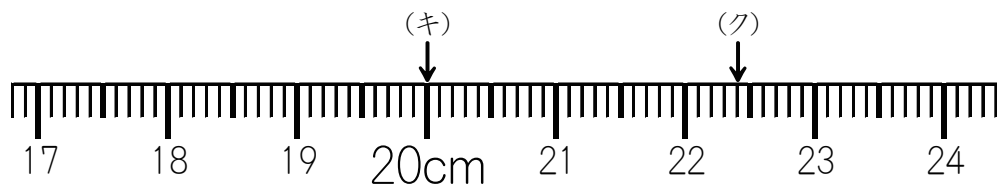
(ウ)	
答え	

(エ)	
答え	



(オ)	
答え	

(カ)	
答え	



(キ)	
答え	

(ク)	
答え	

2、□にあてはまる数字や たんに書きましょう。

- ① 6487m = □ km □ m ② 7 km 231 m = □ m
- ③ 5 km 3 m = □ m ④ 1921m = □ km □ m
- ⑤ 8001m = □ km □ m ⑥ 4 km 25 m = □ m

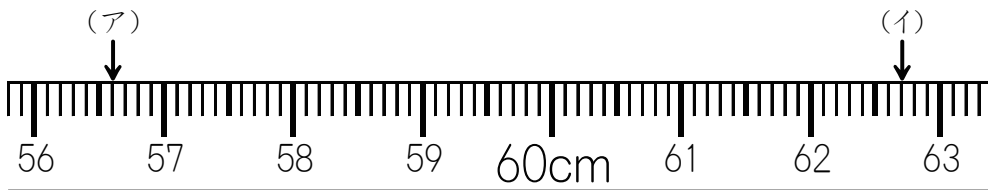
3、□にあてはまる 長さのたんに書きましょう。

- ① 東京 と ふくおか のきより 881 □
- ② 東京タワーの高さ..... 333 □
- ③ あげはちょう のたまご の大きさ..... 1 □
- ④ 本 のあつき..... 2 □
- ⑤ サイクリングロード のきより..... 15 □

長さときより (4)

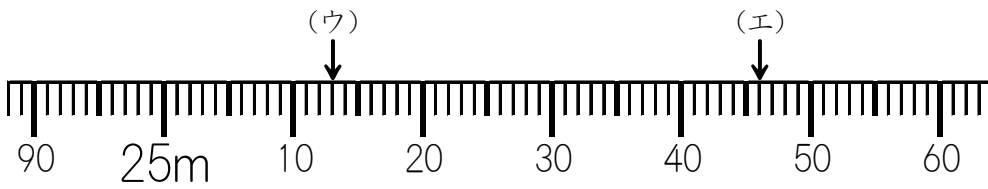
名前 _____

1、↓のメモリの表す長さをたんに気をつけて 答えましょう。



(ア)	
答え	

(イ)	
答え	



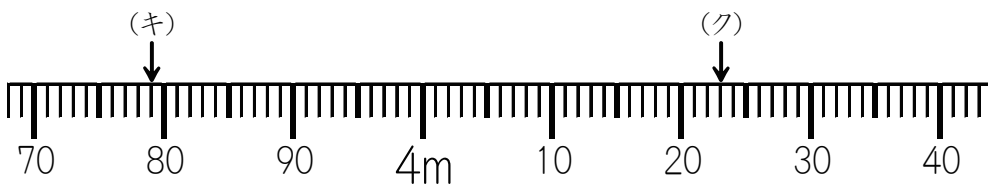
(ウ)	
答え	

(エ)	
答え	



(オ)	
答え	

(カ)	
答え	



(キ)	
答え	

(ク)	
答え	

2、□にあてはまる数字や たんに書きましょう。

- ① $4649\text{m} = \square \text{ km } \square \text{ m}$ ② $2 \text{ km } 10 \text{ m} = \square \text{ m}$
 ③ $3 \text{ km } 960 \text{ m} = \square \text{ m}$ ④ $5006\text{m} = \square \text{ km } \square \text{ m}$
 ⑤ $4050\text{m} = \square \text{ km } \square \text{ m}$ ⑥ $8 \text{ km } 600 \text{ m} = \square \text{ m}$

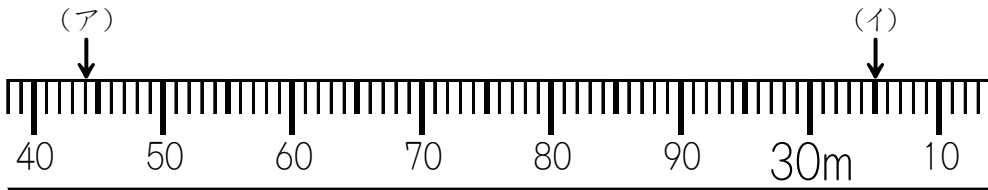
3、□にあてはまる 長さのたんに書きましょう。

- ① スズメの大きさ..... 14
- ② えんぴつの太さ..... 8
- ③ さっぽろ(北海道)と なは(おきなわ)のきより..... 2244
- ④ シロナガスクジラ の大きさ..... 30
- ⑤ 日本一長い川 の長さ(しなの川)..... 367

長さときより (5)

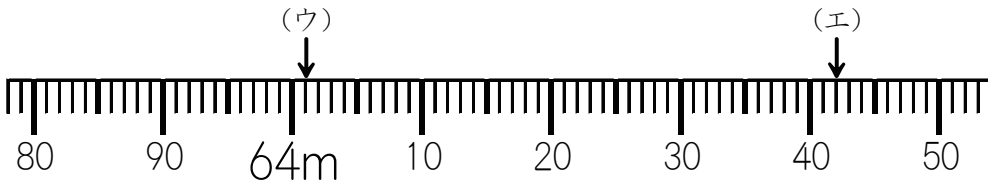
名前 _____

1、↓のメモリの表す長さをたんに気をつけて 答えましょう。



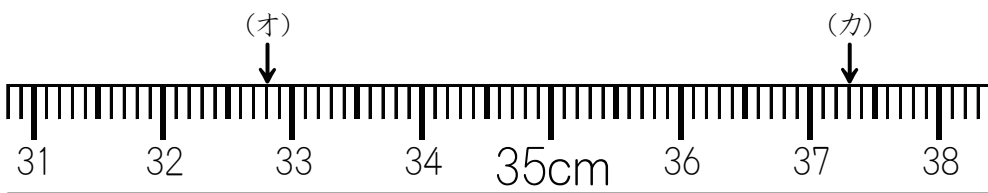
(ア)	
答え	

(イ)	
答え	



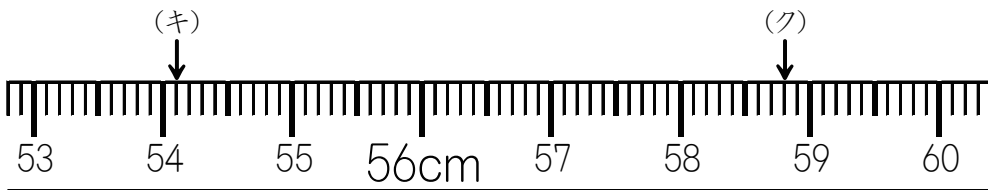
(ウ)	
答え	

(エ)	
答え	



(オ)	
答え	

(カ)	
答え	



(キ)	
答え	

(ク)	
答え	

2、□にあてはまる数字や たんに書きましょう。

- ① $6035\text{m} = \square \text{ km } \square \text{ m}$ ② $7 \text{ km } 200 \text{ m} = \square \text{ m}$
 ③ $3 \text{ km } 5 \text{ m} = \square \text{ m}$ ④ $8109\text{m} = \square \text{ km } \square \text{ m}$
 ⑤ $2607\text{m} = \square \text{ km } \square \text{ m}$ ⑥ $1 \text{ km } 30 \text{ m} = \square \text{ m}$

3、□にあてはまる 長さのたんに書きましょう。

- ① ツツ のサイズ 21
 ② 日本一長い橋 の長さ(アクアブリッジ)..... 4384
 ③ 教科書 のあつさ..... 5
 ④ 世界一長い川(ナイル川) の長さ..... 6695
 ⑤ 日本一高いビル(横浜ランドマークタワー) の高さ..... 296