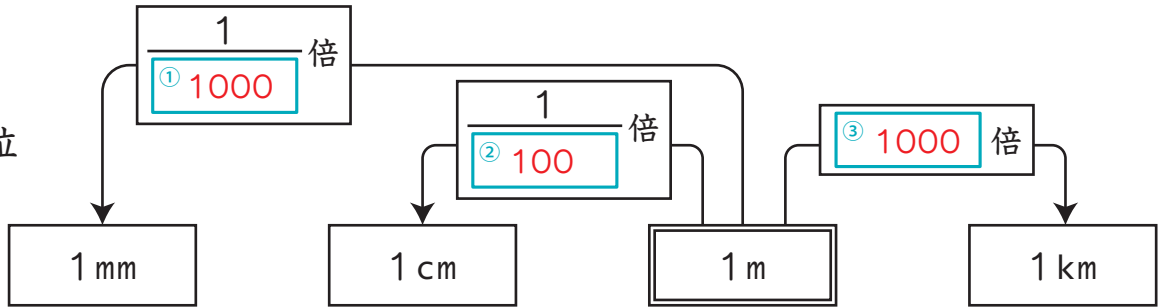


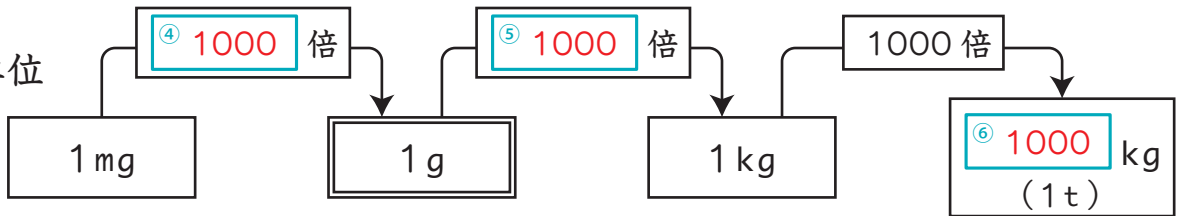
たん い 単位 ● 重さ ● 長さ ● 水のかさ

1 下の図の に合う数を書きましょう。 各5点(40)

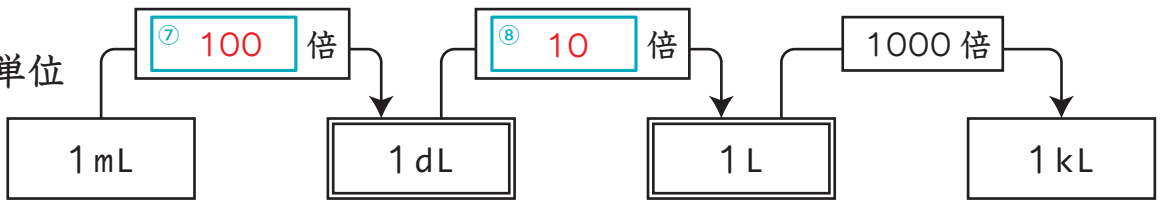
■ 長さの単位



■ 重さの単位



■ 水のかさの単位



2 次の ①～⑧ の量を表すとき、使うとよい単位を () に書きましょう。 各5点(40)

- ① 東京スカイツリーの高さ …… 634 (m)
- ② 1円玉の直径 …… 2 (cm)
- ③ ノートの厚さ …… 6 (mm)
- ④ ナイル川の長さ …… 6,650 (km)
- ⑤ 赤ちゃんの体重 …… 3,000 (g)
- ⑥ お米1俵の重さ …… 60 (kg)
- ⑦ コップ1杯の水のかさ …… 200 (mL)
- ⑧ お風呂のお湯の量 …… 200 (L)

3 () にあてはまる数を書きましょう。 各2点(20)

- ① 1 dL は、(100) mL です。
- ② 1 m は、(1000) mm です。
- ③ 5000 g は、(5) kg です。
- ④ 1000kg は、(1) t です。
- ⑤ 1 L は、(1000) mL です。
- ⑥ 1g は、(1000) mg です。
- ⑦ 10dL は、(1) L です。
- ⑧ 1 km は、(1000) m です。
- ⑨ 10m は、(1000) cm です。
- ⑩ 100m は、(0.1) km です。

