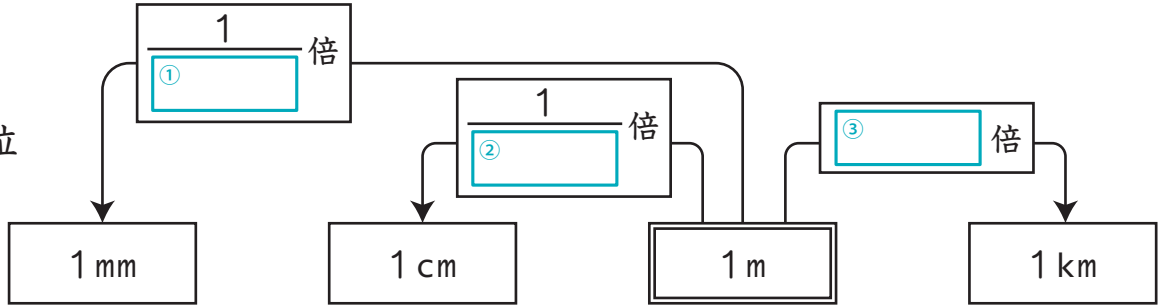


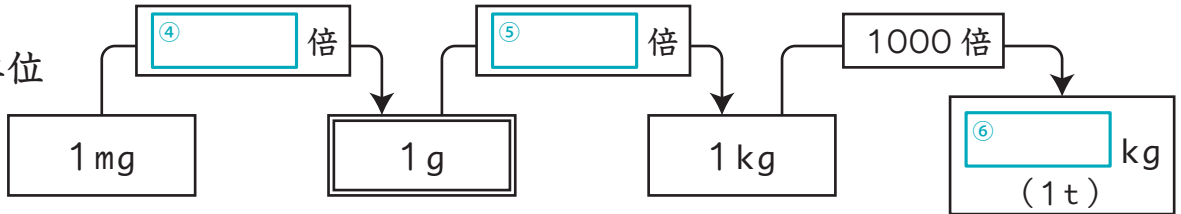
たん い 単位 ●重さ ●長さ ●水のかさ

1 下の図の □ に合う数を書きましょう。 各5点(40)

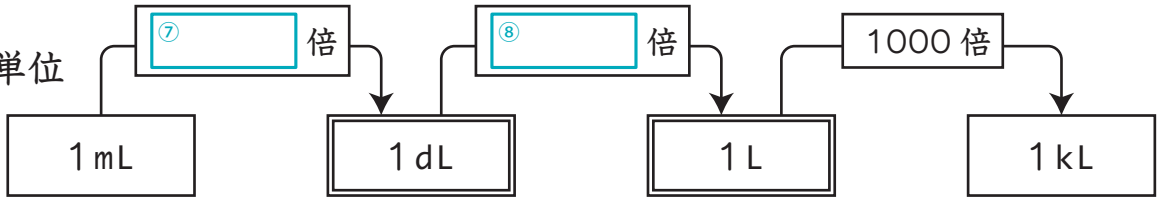
■長さの単位



■重さの単位



■水のかさの単位



2 次の ①～⑧ の量を表すとき、使うとよい単位を () に書きましょう。 各5点(40)

- ① 東京スカイツリーの高さ …… 634 ()
- ② 1円玉の直径 …… 2 ()
- ③ ノートの厚さ …… 6 ()
- ④ ナイル川の長さ …… 6,650 ()
- ⑤ 赤ちゃんの体重 …… 3,000 ()
- ⑥ お米1俵の重さ …… 60 ()
- ⑦ コップ1杯の水のかさ …… 200 ()
- ⑧ お風呂のお湯の量 …… 200 ()

3 () にあてはまる数を書きましょう。 各2点(20)

- ① 1 dL は、() mL です。
- ② 1 m は、() mm です。
- ③ 5000 g は、() kg です。
- ④ 1000kg は、() t です。
- ⑤ 1 L は、() mL です。
- ⑥ 1 g は、() mg です。
- ⑦ 10 dL は、() L です。
- ⑧ 1 km は、() m です。
- ⑨ 10m は、() cm です。
- ⑩ 100m は、() km です。

