


てこのしくみ

1 アとイのように、てこのしくみをつかって、おもりをもち上げます。  
もち上げる力の小さい方に○をつけましょう。25点

ア ( ○ )



イ ( )




2 下の道具の中でてこのしくみを利用しているものに○, 利用していないものに×をつけましょう。各15点(75)


① せんぬき ( ○ )



② えんぴつ ( × )



③ ピンセット ( ○ )



④ くぎぬき ( ○ )



⑤ じょうぎ ( × )

