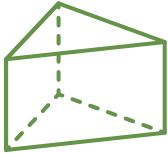

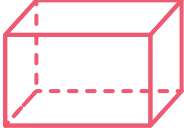



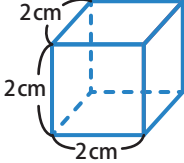



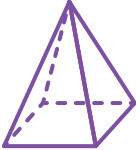



りったい たいせき
立体と体積

なまえ

てん

1 つぎの ①～⑥ の ^{りったい} 立体の ^{なまえ} 名前を ^{みぎ} 右から えらんで、— で つなぎ ましょう。各 10 点 (60)

①			ちよくほうたい 直方体
②			りっぽうたい 立方体
③			えんちゆう 円柱
④			りっぽうたい 立方体
⑤			えんすい 円錐
⑥			しかく 四角すい

2 つぎの ^{てんかいず} 展開図を ^く 組み立てると ^{りったい} どんな 立体が できますか。() の ^{なか} 中から ^{ただ} 正しいものを えらんで ○ で かこみ ましょう。各 20 点 (40)

①		②	
  		 	

