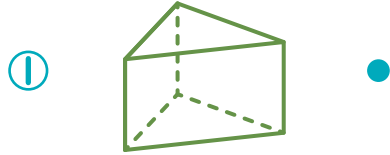


りったい たいせき
立体と体積

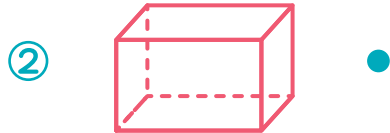
なまえ

てん

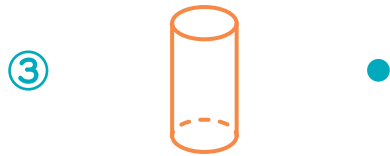
1 つぎの ①～⑥ の りったい 立体の なまえ 名前を みぎ 右からえらんで、——でつなぎましょう。各10点(60)



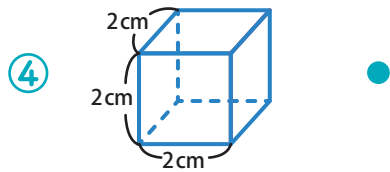
● ちよくほうたい 直方体



● りっぽうたい 立方体



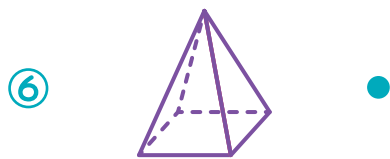
● さんかくちゅう 三角柱



● えんちゅう 円柱



● しかく 四角すい



● えん 円すい

2 つぎの てんかいず 展開図を くみた 組み立てると りったい どんな立体ができますか。() の なか 中から ただ 正しいものをえらんで○でかこみましょう。各20点(40)

