

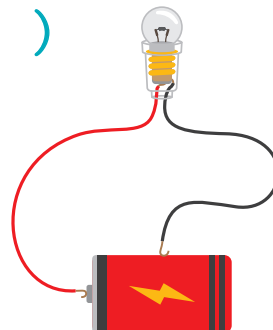
でんき 電気のはたらき

1 下の ア～エ の 図 の 中 で 豆電球の 明かりがつくものに ○ を つけましよう。 25 点


ア ()



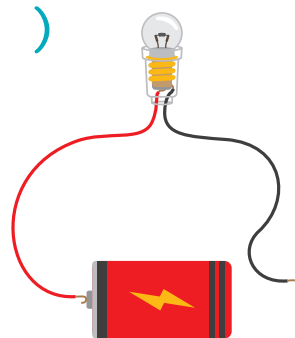
イ ()



ウ ()



エ ()




2 下の 図 の 中 で、電気を 通す 物 に ○、通さない 物 に × を つけましよう。 各 15 点 (75)

① ガラスのコップ ()



② アルミホイル ()



③ いちえんだま 一円玉 ()



④ てつ 鉄の ゼムクリップ ()



⑤ プラスチックの じょうぎ ()

