



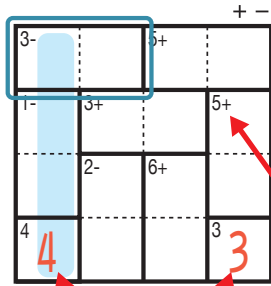
けん ざんアンド ざんレベル 検ロジたし算&ひき算Lv3(8)

なまえ
名前

あそび方

タテ・ヨコの列に1~4までの数字を一度ずつ使い、マスに数字をうめていくパズルです。
たし算か、ひき算をした答えが、ブロックの左上の数になるように、マスに数字を書きます。

れい例



1マスだけのブロックはひだりうえかす左上の数をそのまま書く。

で囲んだブロックは、左上に「3-」とあるので、ひくと答えが3になる数字、 $\begin{matrix} 3- \\ 4 & 1 \end{matrix}$ か $\begin{matrix} 3- \\ 1 & 4 \end{matrix}$ が入ります。ここでは、左側タテの

列の一番下のマスで4がもう使われているので、



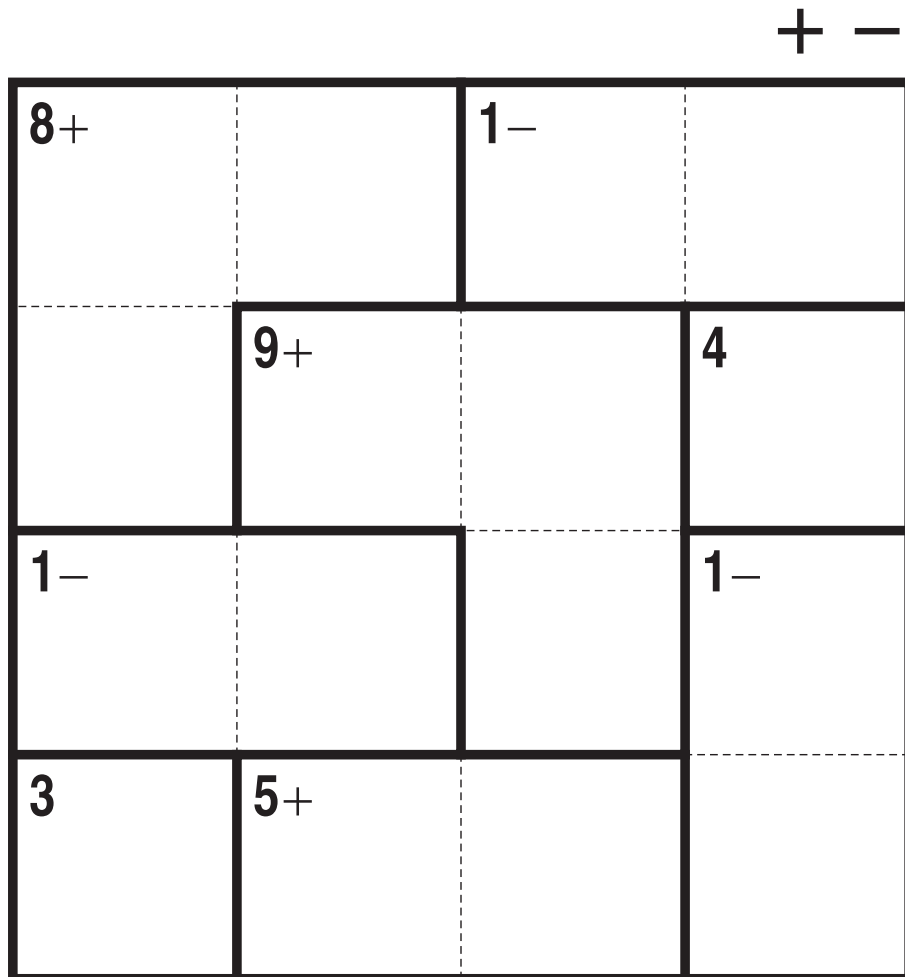
が正解です。

左上に「5+」とあるのでこのブロックはたすと答えが5になる数字が入る。

このマスで4が使われている。



同じ列で、同じ数字を2回は使えないから、このマスは1になる。



©Conceptis Puzzles

13110000107

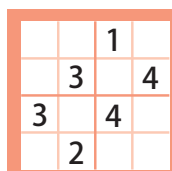
コンセプトス パズル

& ちびむすドリル コラボ企画

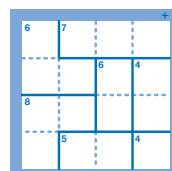
コンセプトスの算数パズル

世界一番人気のロジックパズルを無料ダウンロード。

小さな
お子さんにも!



ミニナンプレ



検ロジ

コンセプトスの
パズルアプリを
チェックしよう!



四則演算が
楽しいパズルに!

