



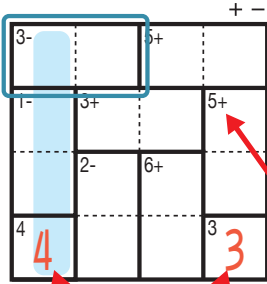
けん ざんアンド ざんレベル 検ロジたし算&ひき算 Lv4(10)

なまえ
名前

あそび方

タテ・ヨコの列に1~4までの数字を一度ずつ使い、マスに数字をうめていくパズルです。
たし算か、ひき算をした答えが、ブロックの左上の数になるように、マスに数字を書きます。

れい例



1マスだけのブロックは
ひだりうえ かず
左上の数をそのまま書く。

で囲んだブロックは、左上に「3-」とあるので、ひくと答えが3
になる数字、

3-	4	1
----	---	---

 か

3-	1	4
----	---	---

 が入ります。ここでは、左側タテの

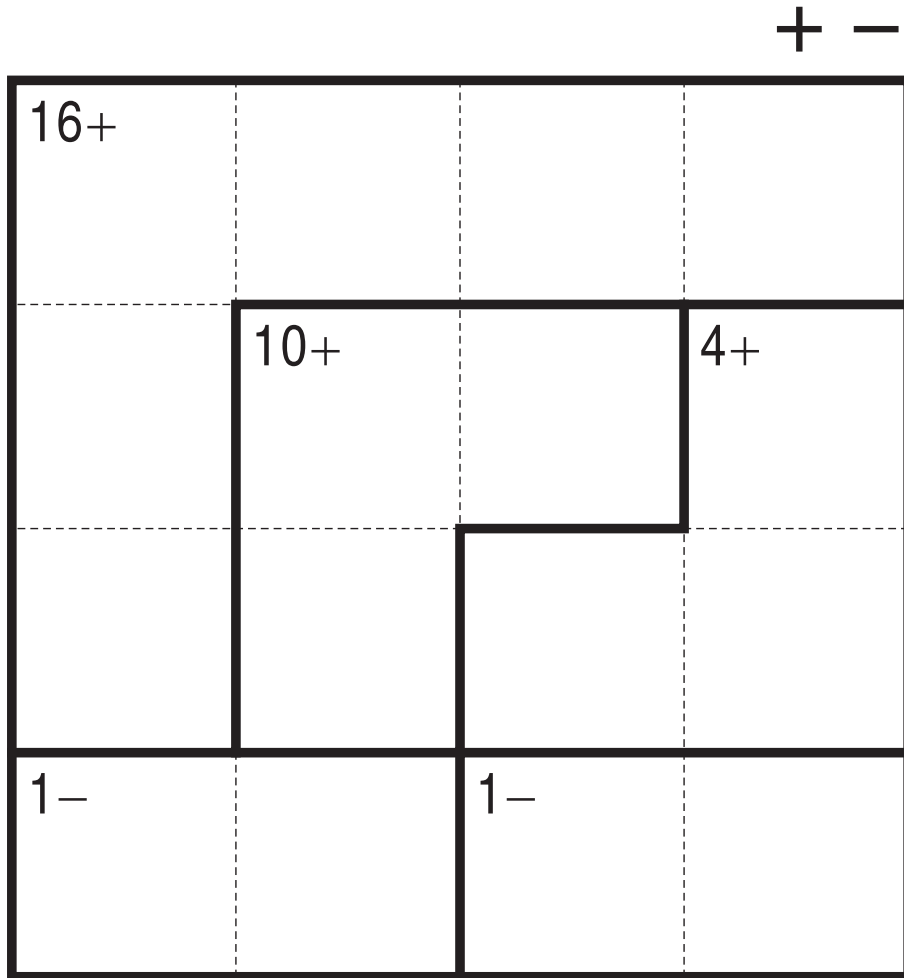
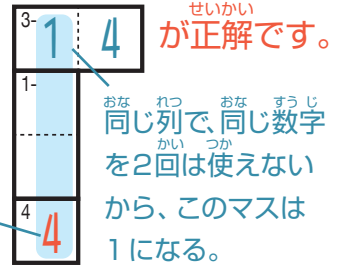
列の一番下のマスで4がもう使われているので、

3-	1	4
1-		
4		

 が正解です。

ひだりうえ
左上に「5+」とあるので
このブロックはたすと答えが
5になる数字が入る。

このマスで4が
つか
使われている。



©Conceptis Puzzles

13110000159

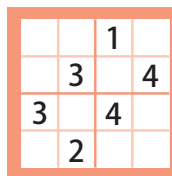
コンセプトス パズル

& ちびむすドリル コラボ企画

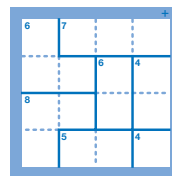
コンセプトスの算数パズル

世界一番人気のロジックパズルを無料ダウンロード。

小さな
お子さんにも!



ミニナンプレ



検ロジ

コンセプトスの
パズルアプリを
チェックしよう!



四則演算が
楽しいパズルに!

