



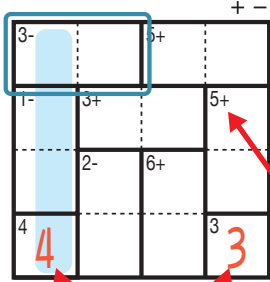
けん ざんアンド ざんレベル 検ロジたし算&ひき算Lv4(9)

なまえ
名前

あそび方

タテ・ヨコの列に1~4までの数字を一度ずつ使い、マスに数字をうめていくパズルです。
たし算か、ひき算をした答えが、ブロックの左上の数になるように、マスに数字を書きます。

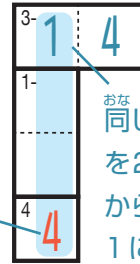
れい例



1マスだけのブロックはひだりうえかす左上の数をそのまま書く。

で囲んだブロックは、左上に「3-」とあるので、ひくと答えが3になる数字、 $\begin{matrix} 3- \\ 4 \end{matrix} \begin{matrix} 1 \end{matrix}$ か $\begin{matrix} 3- \\ 1 \end{matrix} \begin{matrix} 4 \end{matrix}$ が入ります。ここでは、左側タテの

列の一番下のマスで4がもう使われているので、



が正解です。

左上に「5+」とあるのでこのブロックはたすと答えが5になる数字が入る。

このマスで4が使われている。

同じ列で、同じ数字を2回は使えないから、このマスは1になる。

2-	2-		9+
4	3	1	2
2	12+	4	3
3	4	2	1
1	1-		4
	2	3	4

©Conceptis Puzzles

13110000158

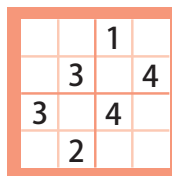
コンセプトス パズル

& ちびむすドリル コラボ企画

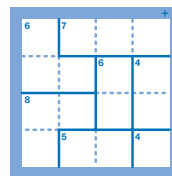
コンセプトスの算数パズル

世界一番人気のロジックパズルを無料ダウンロード。

小さな
お子さんにも!



ミニナンプレ



検ロジ

コンセプトスの
パズルアプリを
チェックしよう!



四則演算が
楽しいパズルに!

