



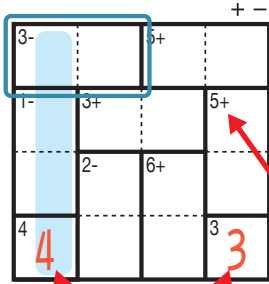
# けん ざんアンド ざんレベル 検ロジたし算&ひき算Lv2(1)

なまえ  
名前

あそび方

タテ・ヨコの列に1~4までの数字を一度ずつ使い、マスに数字をうめていくパズルです。  
たし算か、ひき算をした答えが、ブロックの左上の数になるように、マスに数字を書きます。

れい例



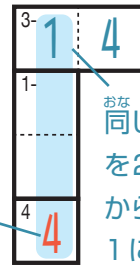
1マスだけのブロックは  
ひだりうえ かす  
左上の数をそのまま書く。

□ で囲んだブロックは、ひだりうえ  
左上に「3-」とあるので、ひくと答えが3  
になる数字、 $\begin{matrix} 3- \\ 4 \end{matrix} \begin{matrix} 1 \\ 1 \end{matrix}$  か  $\begin{matrix} 3- \\ 1 \end{matrix} \begin{matrix} 4 \\ 4 \end{matrix}$  が入ります。ここでは、左側タテの

れつ いちばんした  
列の一番下のマスで4がもう使われているので、 $\begin{matrix} 3- \\ 1 \end{matrix} \begin{matrix} 4 \\ 4 \end{matrix}$  が正解です。

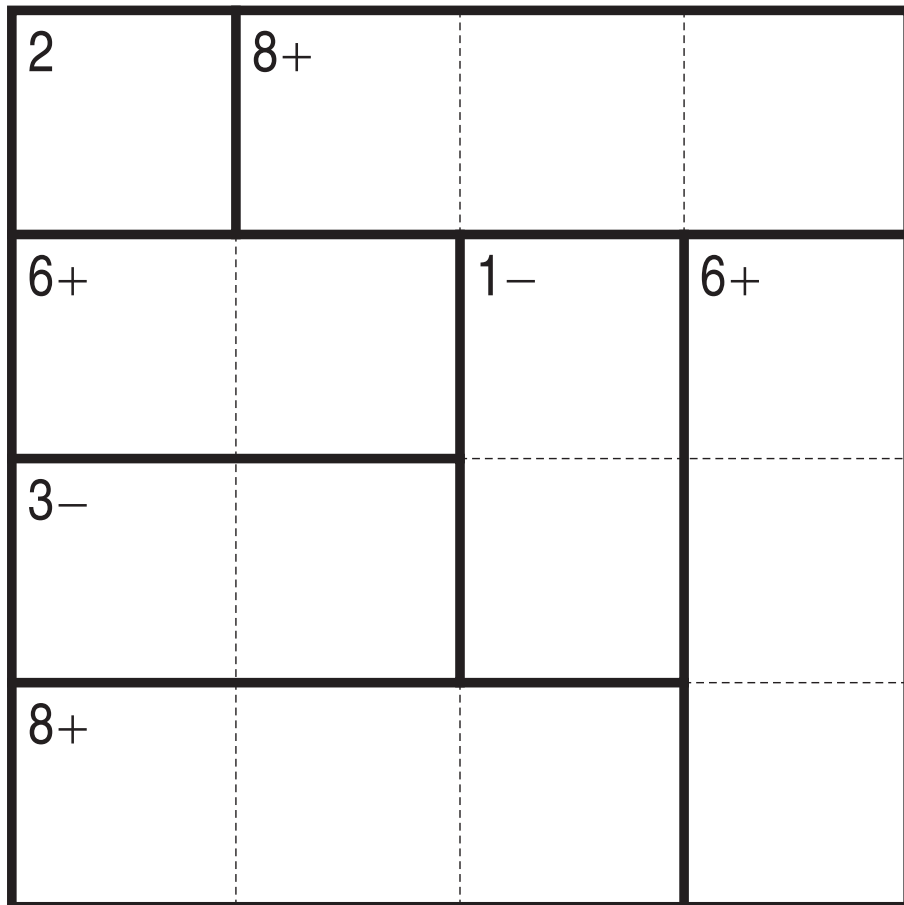
ひだりうえ  
左上に「5+」とあるので  
このブロックはたすと答えが  
5になる数字が入る。

このマスで4が  
つか  
使われている。



せいかい  
同じ列で、同じ数字  
を2回は使えない  
から、このマスは  
1になる。

+ -



©Conceptis Puzzles

13110000050

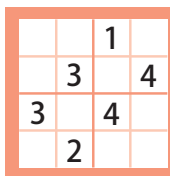
コンセプトス パズル

& ちびむすドール コラボ企画

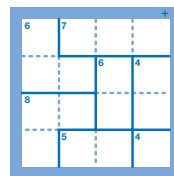
コンセプトスの算数パズル

世界一番人気のロジックパズルを無料ダウンロード。

小さな  
お子さんにも!



ミニナンプレ



検ロジ

コンセプトスの  
パズルアプリを  
チェックしよう!



四則演算が  
楽しいパズルに!

